

Evaluasi Belajar Tahap Akhir Nasional

Tahun 1988

Ekonomi

EBTANAS-SMA-88-01

Kegiatan-kegiatan di bawah ini termasuk fungsi pemasaran, *kecuali* ...

- A. perencanaan menawarkan barang dan jasa
- B. memilih dan menggolongkan barang sesuai dengan keinginan pembeli
- C. pengangkutan barang yang diselenggarakan oleh organisasi pengangkutan
- D. memproduksi barang dalam jumlah tertentu dengan memperhitungkan langganan
- E. mengatur organisasi faktor produksi di dalam Badan Usaha

EBTANAS-SMA-88-02

Sebagian besar penduduk daerah A hidup dari usaha menangkap ikan di laut, daerah B hidup dari usaha mengambil hasil hutan.

Dalam ilmu ekonomi jenis usaha produksi yang dilakukan oleh sebagian besar penduduk kedua daerah itu adalah ...

- A. agraris
- B. ekstraktif
- C. industri
- D. jasa
- E. transpor

EBTANAS-SMA-88-03

Menurut pengertian ilmu ekonomi, kemakmuran akan tercapai apabila ...

- A. semua sumber alam dapat dimanfaatkan sebaik-baiknya
- B. setiap orang dapat memenuhi kebutuhan pokok
- C. terdapat keseimbangan antara kebutuhan dan alat pemuas kebutuhan
- D. setiap orang dapat memenuhi bermacam-macam kebutuhannya
- E. setiap orang dapat mencapai kesejahteraan lahir dan batin

EBTANAS-SMA-88-04

Tujuan dari setiap PELITA adalah ...

- A. tersedianya sarana dan prasarana pembangunan
- B. tersedianya kebutuhan pokok dan lapangan pekerjaan
- C. memobilisasi masyarakat dalam proses pembangunan
- D. meningkatkan taraf hidup, dan meletakkan landasan yang kuat bagi pembangunan berikutnya
- E. terciptanya keseimbangan antara sektor agraris dan sektor industri

EBTANAS-SMA-88-05

Nilai balas jasa dari semua faktor produksi yang diterima, setelah dikurangi pajak tidak langsung yaitu ...

- A. Gross National Product
- B. Net National Product
- C. Net National Income
- D. Personal Income
- E. Disposable Income

EBTANAS-SMA-88-06

Fungsi asli uang sebagai alat ...

- A. pembayaran yang sah
- B. pembayar utang
- C. pengukur nilai
- D. penunjuk harga
- E. penukar umum

EBTANAS-SMA-88-07

Yang tersebut di bawah ini adalah alat pembayaran internasional *kecuali* ...

- A. emas
- B. wesel
- C. cek luar negeri
- D. wesel pos
- E. letter of credit

EBTANAS-SMA-88-08

Inggris, Belanda, Jerman Barat dan Italia melakukan kerjasama ekonomi yang tergabung dalam MEE. Kerjasama demikian disebut kerja sama ekonomi ...

- A. bilateral
- B. unilateral
- C. regional
- D. antar regional
- E. multi regional

EBTANAS-SMA-88-09

Pemilihan tenaga kerja, penyusunan personalia, serta pengembangannya dalam pengelolaan badan usaha adalah termasuk fungsi ...

- A. perencanaan
- B. pengorganisasian
- C. pengawasan
- D. pemasaran
- E. pergerakan

EBTANAS-SMA-88-10

Berikut Jni adalah sumber-sumber permodalan dalam[^] koperasi, *kecuali* ...

- A. simpanan pokok
- B. simpanan wajib
- C. pinjaman dari pihak lain
- D. hasil penjualan saham
- E. penyisihan hasil usaha

EBTANAS-SMA-88-11

Pengeluaran utama yang dilakukan oleh mamisia ditujukan untuk memenuhi kebutuhan ...

- A. ekonomi
- B. produksi
- C. konsumsi
- D. jasmani
- E. pendidikan

EBTANAS-SMA-88-12

Pembangunan dititikberatkan pada sektor pertanian untuk memantapkan swasembada pangan dengan meningkatkan industri yang menghasilkan barang modal, merupakan sasaran pembangunan pada ...

- A. Repelita I
- B. Repelita II
- C. Repelita III
- D. Repelita IV
- E. Repelita V

EBTANAS-SMA-88-13

Hal-hal berikut ini adalah ciri-ciri dari Koperasi, *kecuali* ...

- A. Hak suara tergantung pada besarnya modal.
- B. Tidak mencari untung yang sebesar-besarnya.
- C. Anggota yang diutamakan, modal hanya sebagai alat.
- D. Pembukuan bersifat terbuka.
- E. Modal berubah-ubah tergantung pada keluar masuknya anggota.

EBTANAS-SMA-88-14

Untuk membuat sebuah batu tembok diperlukan biaya Rp 30,00 dan batu tembok itu dapat dijual dengan harga Rp 100,00 perbuah dengan mengeluarkan biaya penjualan Rp 7,50 per buah, maka nilai lebih menurut teori dari Karl Marx adalah ...

- A. Rp 100,00
- B. Rp 77,00
- C. Rp 70,00
- D. Rp 37,50
- E. Rp 62,50

EBTANAS-SMA-88-15

Dalam musim panen padi sering terjadi produksi yang melimpah, sehingga terdapat kemungkinan merosotnya harga gabah yang dapat merugikan petani. Untuk itu pemerintah menetapkan harga ...

- A. maksimum
- B. minimum
- C. eceran
- D. patokan
- E. pasar

EBTANAS-SMA-88-16

Tanah merupakan faktor produksi alam yang tidak dapat ditambah ataupun dikurangi jumlahnya, sehingga elastisitas penawaran tanah bersifat ...

- A. elastis
- B. elastis sempurna
- C. in elastis
- D. unitary elastis
- E. inelastis sempurna

EBTANAS-SMA-88-17

Kegiatan atau usaha memperoleh dan menggunakan dana untuk kepentingan perusahaan termasuk fungsi ...

- A. produksi
- B. konsumsi
- C. pembelian
- D. administrasi
- E. personalia

EBTANAS-SMA-88-18

Indonesia hampir setiap tahun menerima kredit dari luar negeri. Kredit tersebut bertujuan untuk ...

- A. membiayai pembangunan di Indonesia,
- B. meningkatkan produksi barang
- C. pembentukan investasi modal asing
- D. meningkatkan kerja sama ekonomi luarnegeri
- E. meningkatkan pemasaran barang-barang dalam negeri

EBTANAS-SMA-88-19

Apabila pemerintah menggunakan hasil pemungutan pajak untuk kepentingan pembangunan sarana-sarana sosial, maka pemerintah sebenarnya telah menjalankan salah satu fungsi pajak sebagai fungsi ...

- A. sosial
- B. usaha
- C. stabilisasi
- D. distribusi
- E. alokasi

EBTANAS-SMA-88-20

Pembayaran antar negara ditetapkan oleh ...

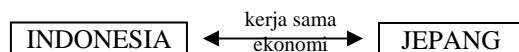
- A. devisa kredit
- B. bursa valuta asing
- C. kurs valuta asing
- D. harga kurs tertentu
- E. nilai ekspor dan impor

EBTANAS-SMA-88-21

Penerimaan devisa sebagai hasil pemasukan wisata asing ke Indonesia akan dicatat dalam neraca Pembayaran Indonesia pada neraca ...

- A. jasa di sisi debit
- B. jasa di sisi kredit
- C. lalu lintas modal sisi debit
- D. lalu lintas modal sisi kredit
- E. lalu lintas moneter sisi debit

EBTANAS-SMA-88-22



Bentuk kerjasama ekonomi seperti tergambar di atas adalah bentuk kerja sama ekonomi ...

- A. internasional
- B. multilateral
- C. antar regional
- D. regional
- E. bilateral

EBTANAS-SMA-88-23

- Di bawah ini adalah ciri-ciri pembangunan ekonomi pola ketat, *kecuali* ...
- A. produksi ditangani pemerintah pusat.
 - B. distribusi ditangani pemerintah pusat.
 - C. konsumsi ditangani pemerintah pusat.
 - D. perencanaan disusun bersama antara pemerintah pusat dan daerah.
 - E. pelaksanaan pembangunan seluruhnya dikusai oleh pemerintah pusat.

EBTANAS-SMA-88-24

- Perkembangan penduduk yang tidak terkendali dapat menghambat perkembangan ekonomi, karena ...
- A. semakin banyak penduduk semakin sulit mencari tempat pemukiman.
 - B. perkembangan penduduk akan menurunkan produktivitas tenaga kerja dan menurunkan pendapatan perkapita.
 - C. perkembangan penduduk menambah laju inflasi.
 - D. perkembangan penduduk mempersulit para perencana pembangunan untuk menentukan skala prioritas pembangunan,
 - E. perkembangan penduduk menambah masalah kemiskinan.

EBTANAS-SMA-88-25

- Dalam dialog Utara Selatan hal-hal yang dibahas adalah masalah-masalah sebagai berikut, *kecuali* ...
- A. perdagangan
 - B. moneter
 - C. energi
 - D. kesehatan
 - E. teknologi

EBTANAS-SMA-88-26

- Tindakan yang bertujuan agar apa yang direncanakan semula di dalam Badan Usaha menjadi kenyataan termasuk fungsi ...
- A. planning
 - B. controlling
 - C. actuating
 - D. organizing
 - E. staffing

EBTANAS-SMA-88-27

- Perusahaan swasta memperoleh kesempatan berusaha secara wajar seperti tercermin dalam UUD 1945 pasal ...
- A. pasal 23 ayat 2
 - B. pasal 27 ayat 2
 - C. pasal 33 ayat 1
 - D. pasal 33 ayat 2
 - E. pasal 33 ayat 3

EBTANAS-SMA-88-28

- Kekuasaan tertinggi pada koperasi berada di tangan ...
- A. pengurus
 - B. badan pemeriksa
 - C. kepala Kantor Koperasi
 - D. menteri koperasi
 - E. rapat anggota

EBTANAS-SMA-88-29

- Pengawasan penggunaan modal koperasi dilakukan oleh ...
- A. manager
 - B. pengurus
 - C. badan pemeriksa
 - D. dewan penasehat
 - E. pejabat koperasi

EBTANAS-SMA-88-30

- Berikut ini adalah hal-hal yang mengakibatkan berakhirnya keanggotaan dalam koperasi sekolah, *kecuali* siswa ...
- A. tinggal kelas
 - B. meninggal dunia
 - C. pindah sekolah
 - D. berhenti sekolah
 - E. tamat belajar

EBTANAS-SMA-88-31

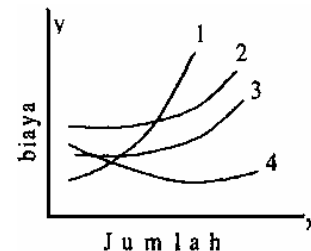
Perhatikan tabel berikut:

Jumlah kerja	Jumlah hasil	Jumlah hasil
1	10	
2	21	10
3	33	13
4	47	15
5	57	11

- Dari tabel tersebut di atas law of diminishing returns berlaku sejak perluasan jumlah kerja ...
- A. 5 dengan jumlah hasil 57
 - B. 2 dengan jumlah hasil 21
 - C. 3 dengan jumlah hasil 33
 - D. 1 dengan jumlah hasil 10
 - E. 4 dengan jumlah hasil 47

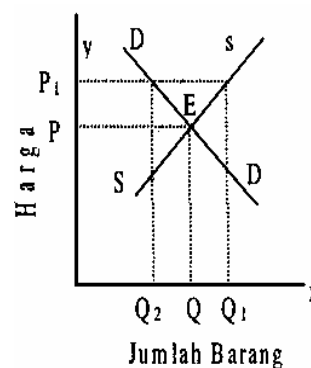
EBTANAS-SMA-88-32

- Perhatikan kurve di samping ini, kurve nol adalah kurve dari ...
- A. marginal cost
 - B. average cost
 - C. average variable cost
 - D. average fixed cost
 - E. total cost



EBTANAS-SMA-88-33

Berdasarkan kurva tersebut, apabila harga pasar naik sebesar $P - P_1$ maka akan berakibat ...



- A. permintaan berkurang sebesar dari $Q - Q_2$
- B. penawaran bertambah sebesar dari $Q - Q_3$
- C. kelebihan (surplus) penawaran sebesar dari $Q_i - Q_i$
- D. kelebihan (surplus) penawaran sebesar dari $Q - Q$,
- E. kelebihan (surplus) penawaran sebesar. dari $Q_2 - Q$

EBTANAS-SMA-88-34

Ketentuan tarif pajak penghasilan sesuai dengan undang-undang perpajakan yang berlaku adalah sebagai berikut:

Penghasilan kena pajak (PKP)	Tarif pajak
1. Sampai dengan Rp 10.000.000,-	15%
2. Di atas Rp 10.000.000,- sampai dengan Rp 50.000.000,-	25%
3. Di atas Rp 50.000.000,-	35%

Dari ketentuan di atas, disimpulkan bahwa sistem pemungutan tarif pajak yang diterapkan di Indonesia adalah ...

- sistem proporsional
- sistem progresif
- sistem regresif
- sistem agrsif
- sistem regresif

EBTANAS-SMA-88-35

Menurut Karl Bucher tingkat perkembangan perekonomian sudah mencapai rumah tangga bangsa apabila ...

- kehidupan ekonomi berlangsung dalam lingkungan yang sempit.
- masyarakat menghasilkan barang semata-mata untuk kebutuhan lingkungan sendiri.
- produksi yang dihasilkan oleh masyarakat berdasarkan atas pesanan para langganan.
- perekonomian sudah meliputi daerah yang luas dan barang yang dihasilkan orientasinya pasar
- hubungan ekonomi antarbangsa sudah berlangsung.

EBTANAS-SMA-88-36

Industrialisasi merupakan salah satu usaha perluasan kesempatan kerja,

SEBAB

Industrialisasi menciptakan lapangan pekerjaan yang baru.

EBTANAS-SMA-88-37

Rapat anggota koperasi mencerminkan sifat demokrasi dalam koperasi,

SEBAB

Rapat anggota harus tunduk kepada keputusan rapat/pengurus.

EBTANAS-SMA-88-38

Salah satu tujuan pembangunan desa ialah untuk mengurangi kesenjangan antara kota dan desa,

SEBAB

Semakin lancar transportasi antara desa dan kota semakin berkembang perekonomian desa.

EBTANAS-SMA-88-39

Pendapatan nasional adalah jumlah pendapatan yang diterima pemilik faktor produksi selama satu tahun,

SEBAB

Pendapatan perkapita adalah hasil bagi antara pendapatan nasional dengan jumlah penduduk suatu negara.

EBTANAS-SMA-88-40

Pelaksanaan proyek-proyek yang bersifat padat karya merupakan salah satu jalan keluar untuk mengatasi masalah pengangguran,

SEBAB

Proyek padat karya mengutamakan pemanfaatan tenaga kerja dari pada pemanfaatan alat-alat modern.

EBTANAS-SMA-88-41

Setiap tindakan manusia pada umumnya dilandasi dengan prinsip ekonomi serta didorong oleh motif ekonomi seperti ...

- mendapatkan laba maksimum dengan pengorbanan tertentu
- mendapatkan kedudukan di dalam pekerjaan
- mendapatkan kekuasaan dalam bidang ekonomi
- mendapatkan kekuasaan dalam bidang politik

EBTANAS-SMA-88-42

Sumber-sumber pendapatan negara secara intern adalah ...

- penerimaan minyak bumi dan gas alam
- bantuan program dan proyek
- penerimaan pajak langsung dan tidak langsung
- pinjaman yang tidak mengikat

EBTANAS-SMA-88-43

Yang menjadi pendorong pembangunan ekonomi Indonesia ialah ...

- bertambahnya jumlah penduduk
- tuntutan dunia modern
- memerangi kemiskinan
- semangat rakyat yang menyala-nyala

EBTANAS-SMA-88-44

Faktor yang mempengaruhi kredibilitas seseorang adalah ...

- kemampuannya untuk memperoleh pendapatan
- bonafiditas dilihat dari kemampuannya
- pengalaman dalam berusaha
- jaminan yang digunakan

EBTANAS-SMA-88-45

Kebijaksanaan penanaman modal di Indonesia bertujuan untuk ...

- mengkoordinasikan penanaman modal
- mencari sumber permodalan
- meningkatkan jumlah modal
- menggairahkan iklim dunia usaha

URAIAN

EBTANAS-SMA-88-46

Sebutkan 2 orang penganut aliran Klasik!

EBTANAS-SMA-88-47

Siapa saja yang termasuk anggota Dewan Moneter di Indonesia?

EBTANAS-SMA-88-48

Jelaskan 2 alasan mengapa pembangunan bidang ekonomi diprioritaskan dalam pembangunan nasional!

EBTANAS-SMA-88-49

Jelaskan golongan masyarakat yang menderita akibat inflasi!

EBTANAS-SMA-88-50

Nilai kurs US Dollar terhadap rupiah pada hari ini adalah sebagai berikut: US \$ 1,- beli: Rp 1.640,00 jual: Rp 1.650,00 Farid mempunyai uang sebanyak \$ 1.500 ingin ditukarkan dengan rupiah. Hitunglah berapa rupiah yang harus diterimanya!