

Evaluasi Belajar Tahap Akhir Nasional

Tahun 1989

Ekonomi

EBTANAS-SMA-89-01

Kebutuhan	Kolom I	Kolom II	Kolom III
No. 1	Makanan	Sabun	Mobil
No. 2	Pakaian	Obat-obatan	Video
No. 3	Rumah	Buku	Kulkas

Berdasarkan tabel di atas yang termasuk kebutuhan primer adalah ...

- A. Kolom I nomor 1, 2, dan 3
- B. Nomor 1 Kolom I, II, dan III
- C. Kolom II Nomor 1, 2, dan 3
- D. Nomor 2 Kolom I, II, dan III
- E. Kolom III Nomor 1, 2, dan 3

EBTANAS-SMA-89-02

Di bawah ini adalah motif-motif ekonomi, *kecuali* ...

- A. meningkatkan kemakmuran
- B. memperoleh penghargaan masyarakat
- C. berpartisipasi dalam pembangunan
- D. memperoleh kekuasaan/monopoli
- E. melakukan hal-hal yang bersifat sosial

EBTANAS-SMA-89-03

Yang termasuk faktor produksi asli adalah faktor produksi ...

- A. alam dan modal
- B. alam dan tenaga kerja
- C. modal dan keahlian
- D. tenaga kerja dan modal
- E. alam dan kewiraswastaan

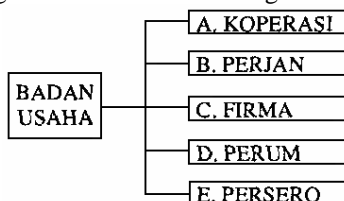
EBTANAS-SMA-89-04

Teori nilai subjektif pada akhirnya untuk menentukan tinggi rendahnya nilai suatu barang/jasa ditentukan oleh nilai ...

- A. pakaian terendah
- B. terendah
- C. tukar tertinggi
- D. pakai tertinggi
- E. batas barang

EBTANAS-SMA-89-05

Berdasarkan Intruksi Presiden RI No. 9 tahun 1969 penggolongan badan usaha milik negara adalah ...



- A. A + B + C
- B. A + B + E
- C. B + C + D
- D. B + D + E
- E. C + D + E

EBTANAS-SMA-89-06

Teori kuantitas dari Ricardo mengenai nilai uang adalah ...

- A. nilai uang sama dengan nilai bahannya
- B. uang bernilai karena tenaga belinya
- C. harga barang berbanding lurus dengan jumlah uang yang beredar
- D. harga barang berbanding lurus dengan jumlah uang beredar dan kecepatan beredarnya uang
- E. perubahan nilai uang digambarkan dengan rumus $M V = P T$

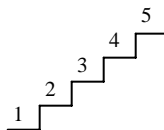
EBTANAS-SMA-89-07

Yang termasuk fungsi kredit, yaitu ...

- A. meningkatkan produksi
- B. meningkatkan konsumsi
- C. meningkatkan impor barang jadi
- D. meningkatkan jumlah uang yang beredar
- E. meningkatkan kemampuan pemasaran

EBTANAS-SMA-89-08

Dari tabel atau diagram dibawah ini, jika ditinjau menurut penahapan Friedrich List, maka tangga no, 4 adalah ...



- A. masa berburu dan menangkap ikan
- B. masa bertani dan kerajinan tangan
- C. masa mengembara
- D. masa bertani, berburu, dan perdagangan
- E. masa bertani, industri, dan perdagangan internasional

EBTANAS-SMA-89-09

Tiga unsur penting dalam tata ekonomi Indonesia menurut pasal 33 Undang-undang Dasar 1945 adalah ...

- A. sektor pemerintah, sektor asing, sektor koperasi
- B. sektor pemerintah, sektor swasta, sektor koperasi
- C. sektor pemerintah, sektor asing, sektor swasta
- D. sektor koperasi, sektor swasta, sektor asing
- E. sektor perusahaan, sektor asing, sektor pemerintah

EBTANAS-SMA-89-10

Di dalam koperasi, tugas dan wewenang untuk:

- menetapkan atau mengubah, menyempurnakan anggaran dasar koperasi;
 - menetapkan rencana kerja, anggaran belanja, pengesahan neraca; dan
 - menetapkan kebijaksanaan penanaman modal dan penambahan modal,
- adalah wewenang dari ...
- pengurus koperasi
 - badan pemeriksa
 - manager
 - anggota
 - rapat anggota

EBTANAS-SMA-89-11

Modal koperasi diperoleh antara lain dari simpanan anggota. Simpanan yang dapat diminta kembali sewaktu-waktu bila diperlukan adalah simpanan ...

- pokok
- wajib
- sukarela
- khusus
- berkala

EBTANAS-SMA-89-12

Dengan adanya koperasi di sekolah-sekolah sebagai wadah melaksanakan perkoperasian bertujuan ...

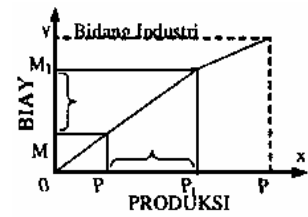
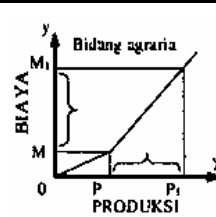
- mendorong para siswa untuk mengembangkan koperasi
- membantu siswa untuk mengurus suatu koperasi
- mendidik siswa sebagai pengurus koperasi
- memperkenalkan kepada siswa cara mendirikan koperasi
- mendidik siswa menjadi generasi penerus perkoperasian di Indonesia

EBTANAS-SMA-89-13

Penggolongan Badan Usaha berdasarkan pemilikan modalnya meliputi ...

- Badan Usaha Negara, Usaha Swasta
- Badan Usaha Negara, Usaha Campuran
- Badan Usaha Negara, Usaha Swasta, Usaha Campuran
- Badan Usaha Negara, Usaha Campuran, Usaha Asing
- Badan Usaha Negara, Usaha Swasta, Usaha Asing

EBTANAS-SMA-89-14



Pada grafik kita lihat bahwa untuk pertambahan produksi sebesar PP_1 terjadi penambahan biaya di bidang Agraria (MM_1) lebih besar dari pertambahan biaya di bidang Industri (NN_1). Hal ini disebabkan oleh ...

- bidang agraria belum maju
- kegiatan industri mengikuti teknologi canggih
- kegiatan industri sangat dipengaruhi oleh hukum alam
- law of diminishing return* lebih cepat berlakunya pada bidang agraria
- pertambahan biaya dari pertambahan produksi tidak seimbang

EBTANAS-SMA-89-15

Kalau harga buku tulis Rp 75,00 per buah, permintaan 3.000 buah. Bila harga buku tulis naik menjadi Rp 100,00 per buah, permintaan 2.500 buah. Maka permintaan ini disebut ...

- Elastis ($E > 1$)
- Inelastis ($E < 1$)
- Elastis sempurna ($E = \infty$)
- Inelastis sempurna ($E = 0$)
- Elastis kesatuan ($E = 1$)

EBTANAS-SMA-89-16

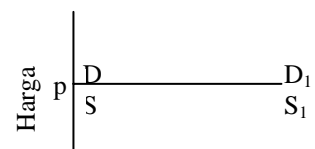
Pelaksanaan pembangunan diarahkan menuju terciptanya keadilan sosial bagi seluruh rakyat Indonesia. Berdasarkan data yang dicapai tahun 1986, pertumbuhan ekonomi 1,9 % sedangkan pertumbuhan penduduk 2,2 %. Di bawah ini faktor penyebab pertumbuhan ekonomi lebih rendah, *kecuali* ...

- Devisa berkurang karena turunnya harga BBM
- Resesi ekonomi internasional
- Ekspor BBM menurun
- Produksi nasional di sektor industri meningkat
- Kegiatan produksi turun

EBTANAS-SMA-89-17

Kurva pasar di samping menunjukkan bahwa jumlah barang yang ditawarkan/diminta tidak terbatas, menunjukkan kurva pasar ...

- monopoli
- monopsoni
- oligopoli
- menopolistik
- persaingan sempurna



EBTANAS-SMA-89-18

Yusman bekerja pada PT Buyung dengan memperoleh upah/gaji tahun I Rp 500.000,00, tahun II Rp 600.000,00, tahun ke III Rp 700.000,00. Kenaikan upah tersebut karena Yusman sangat berprestasi dan dapat menaikkan laba perusahaan. Hal ini berarti kenaikan upah/gaji Yusman termasuk dalam kategori ...

- A. Progresif-progresif
- B. Progresif-proporsional
- C. Proporsional-progresif
- D. Progresif-degresif
- E. Proporsional-degresif

EBTANAS-SMA-89-19

Salah satu syarat bagi peminjam uang adalah jaminan harus lebih besar dari pinjaman. Hal ini disebut ...

- A. collateral
- B. capacity
- C. condition
- D. capital
- E. character

EBTANAS-SMA-89-20

Bank adalah lembaga keuangan yang pokok usahanya memberikan kredit dan jasa dalam alur pembayaran dan peredaran uang sesuai dengan ...

- A. UU No. 12 tahun 1967
- B. UU No. 14 tahun 1967
- C. UU No. 14 tahun 1968
- D. Kep.37/MK/TW1972
- E. UU No. 13 tahun 1982

EBTANAS-SMA-89-21

A. Pembayaran air minum, parkir kendaraan maupun sewa pasar dari rakyat kepada pemerintah dengan balas jasa langsung termasuk dalam ...

- B. pajak langsung
- C. pajak tak langsung
- D. retribusi
- E. bea dan cukai
- F. pajak penjualan

EBTANAS-SMA-89-22

Penyusunan APBN bertujuan ...

- A. menciptakan kesejahteraan dan kemakmuran bagi masyarakat
- B. sebagai data penyusunan Repelita dari tahun ke tahun
- C. mengatur pertumbuhan ekonomi nasional dan pendapatan perkapita
- D. kemudahan memenuhi kebutuhan
- E. mengalokasikan biaya secara efektif dan efisien

EBTANAS-SMA-89-23

Pajak yang dipungut oleh pemerintah digunakan untuk meningkatkan pembangunan seperti mendirikan kilang-kilang minyak baru, irigasi, PLTA. Semua ini menyebabkan terjadinya hal-hal sebagai berikut, *kecuali* ...

- A. devisa negara bertambah
- B. penghasilan rakyat meningkat
- C. lapangan kerja bertambah
- D. pengangguran bertambah
- E. kemakmuran rakyat meningkat

EBTANAS-SMA-89-24

Faktor utama yang menyebabkan timbulnya perdagangan internasional adalah ...

- A. adanya keinginan memenuhi kebutuhan yang tidak dapat dipenuhi dalam negaranya sendiri
- B. adanya persamaan sumber-sumber alam antara dua negara atau lebih sehingga timbul kerja sama
- C. adanya keinginan suatu negara untuk menguasai negara lain
- D. adanya keinginan untuk mendapatkan dan menguasai bahan-bahan mentah secara monopoli di suatu negara
- E. adanya kesamaan tingkat kesuburan teknologi dan produks antardua negara

EBTANAS-SMA-89-25

Kebijakan yang ditempuh oleh pemerintah dalam membatasi jumlah barang yang diimpor adalah ...

- A. dumping
- B. otarki
- C. diskriminasi
- D. proteksi
- E. kuota

EBTANAS-SMA-89-26

Pemerintah Indonesia dan Jepang bersepakat saling menukar barang-barang produksi masing-masing. Kesepakatan itu dapat digolongkan dalam kerja sama...

- A. antaregional
- B. internasional
- C. regional
- D. bilateral
- E. multilateral

EBTANAS-SMA-89-27

Bank Dunia (*World Bank*) mempergunakan GNP sebagai alat ukur pembangunan ekonomi pada suatu negara. Selain GNP, ada alat ukur yang lain untuk menentukan peningkatan pembangunan pada suatu negara, yaitu tingkat ...

- A. pendidikan penduduk
- B. kesehatan penduduk
- C. kemudahan memenuhi kebutuhan
- D. distribusi pendapatan
- E. penggunaan pendapatan

EBTANAS-SMA-89-28

Kebijakan pembangunan ekonomi berdasarkan pola longgar bila ...

- A. peranan pemerintah sangat menonjol, tanpa kerja sama pihak swasta
- B. peranan swasta sangat menonjol, tanpa campur tangan pemerintah
- C. peranan pemerintah sangat menonjol, namun terbuka kesempatan kepada pihak swasta
- D. peranan swasta sangat menonjol, namun ada campur tangan pemerintah
- E. baik swasta maupun pemerintah mempunyai peranan yang sama-sama menonjol

EBTANAS-SMA-89-29

Prioritas dan Pertahapan Repelita

Prioritas	Kode	Repelita
Menitikberatkan pada kekuatan industri yang didukung oleh bidang pertanian yang kuat	A	Repelita I
	B	Repelita II
	C	Repelita III
	D	Repelita IV
	E	Repelita V

Tunjukkan dengan kode Repelita yang sesuai dengan prioritas yang terdapat dalam label di atas ...

- A. kode A
- B. kode B
- C. kode C
- D. kode D
- E. kode E

EBTANAS-SMA-89-30

Di negara Toloheor mempunyai komposisi penduduk sebagai berikut. Usia 0 - 14 tahun sebanyak 55 juta jiwa; usia 15 - ke atas sebanyak 5 juta jiwa; usia 15 - 64 tahun sebanyak 80 juta jiwa. Berdasarkan data di atas setiap 100 orang yang produktif akan menanggung orang yang tidak produktif sejumlah ...

- A. 64 orang
- B. 66 orang
- C. 69 orang
- D. 72 orang
- E. 75 orang

EBTANAS-SMA-89-3

MATRIK BUMN

A = Modal	B = kegiatan	C = status Pegawai
1. Kekayaan negara tidak dipisahkan	1. Public service	1. Pegawai Negara
2. Kekayaan negara dipisahkan	2. Public utility	2. Pegawai Perusahaan Negara
3. Terdiri dari saham	3. Public company	3. Pegawai Perusahaan Swasta

Berdasarkan matrik BUMN di atas dapat ditafsirkan bahwa Perusahaan Jawatan Kereta Api termasuk perusahaan ...

- A. A1, B1, C1
- B. A2, B1, C1
- C. A3, B1, C1
- D. A1, B1, C2
- E. A2, B1, C2

EBTANAS-SMA-89-32

Berikut ini adalah manfaat penanaman modal asing bagi pembangunan nasional, *kecuali* ...

- A. menyerap banyak tenaga kerja
- B. memanfaatkan kekayaan alam potensial
- C. mempercepat proses industrialisasi
- D. menghemat penggunaan devisa
- E. alih teknologi kepada tenaga ahli bangsa Indonesia

EBTANAS-SMA-89-33

Badan Usaha Koperasi bukan organisasi modal yang mengutamakan keuntungan, tetapi pengendalian modal koperasi sangat menentukan keberhasilan koperasi. Pengendalian modal koperasi bertujuan untuk meningkatkan ...

- A. jumlah modal dan efisiensi pemanfaatan modal
- B. jumlah penerimaan kredit koperasi dari bank
- C. jumlah sumbangan pokok anggota koperasi
- D. jumlah sumbangan donatur koperasi
- E. pembinaan dan diversifikasi usaha koperasi

EBTANAS-SMA-89-34

Pemuasan secara vertikal dari 11 piring nasi diagram menurut angka-angkadalam tabel di samping. Kepuasan maksimum yang mungkin diperoleh dan ingin diraih dari 11 piring nasi itu terdapat pada angka ...

Jumlah piring nasi	Pemuasan
1	10
2	9
3	8
4	7
5	6
6	5
7	4
8	3
9	2
10	1
11	0

- A. 0
- B. 10
- C. 45
- D. 50
- E. 55

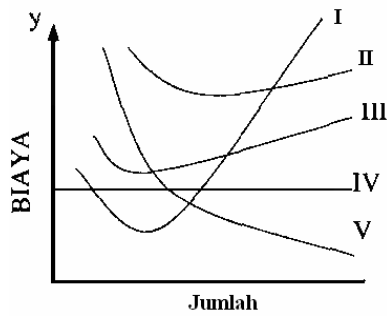
EBTANAS-SMA-89-35

Di bawah ini adalah sendi-sendi dasar koperasi Indonesia, *kecuali* ...

- A. usaha dan ketatalaksanaannya bersifat terbuka
- B. adanya pembatasan bunga atas modal
- C. pembelian barang secara tunai
- D. rapat anggota merupakan kekuasaan tertinggi
- E. pembagian sisa hasil usaha diatur menurut jasa tiap-tiap anggota

EBTANAS-SMA-89-36

Berdasarkan kurva biaya di bawah ini, letak kurva rata-rata biaya tetap (AFC) ialah ...



- A. I
- B. II
- C. III
- D. IV
- E. V

EBTANAS-SMA-89-37

Meningkatnya pendapatan nasional belum menjamin meningkatnya kemakmuran karena ada faktor lain yang ikut menentukan tingkat kemakmuran, antara lain jumlah ...

- A. investasi
- B. konsumsi
- C. penduduk
- D. penabung
- E. akumulasi modal

EBTANAS-SMA-89-38

Irving Fisher mengemukakan teorinya dalam rumus $M \times V = P \times T$. Bila jumlah uang yang beredar (M) dinaikkan 2 kali semula dan jumlah barang (T) juga dinaikkan 2 kali lipat, sedangkan kecepatan uang beredar (V) nya tetap, maka mengakibatkan harga ...

- A. turun
- B. naik 2 kali
- C. turun 50%
- D. tetap
- E. stabil

EBTANAS-SMA-89-39

Jumlah pendapatan atau harta yang dipajak	Prosentase Pajak			
	Proporsional	Progresif	Degresif	Regresif
Rp 1.000.000,00	4	4	4	4
Rp 2.000.000,00	4	5	4,8	3,2
Rp 3.000.000,00	4	6	5,4	2,6
Rp 4.000.000,00	4	7	5,8	2,2
Rp 5.000.000,00	4	8	6	2

Berdasarkan tabel tersebut, nampak bahwa sistem pajak yang paling menguntungkan bagi masyarakat berpenghasilan tinggi adalah sistem ...

- A. progresif
- B. proporsional
- C. degresif
- D. regresif
- E. progresif/proporsional

EBTANAS-SMA-89-40

Hubungan dagang antara Indonesia dengan negara-negara anggota ASEAN menunjukkan data sebagai berikut.

Negara	Besarnya ekspor dalam jutaan Rp	Besarnya impor dalam jutaan Rp
Malaysia	1200	1100
Singapura	900	2400

Berdasarkan daftar di atas, dapat diambil kesimpulan bahwa ...

- A. neraca perdagangan Indonesia defisit terhadap Singapura
- B. neraca perdagangan Indonesia surplus terhadap Malaysia
- C. neraca perdagangan Singapura surplus terhadap Indonesia
- D. neraca perdagangan Indonesia seimbang terhadap Malaysia
- E. neraca perdagangan Indonesia surplus terhadap Singapura

EBTANAS-SMA-89-41

Dalam melaksanakan pembayaran internasional, kita mengenal *Letter of Credit* atau L/C, yaitu ...

- A. bukti kredit pembayaran luar negeri
- B. kredit dengan jaminan dokumen ekspor
- C. kredit dengan jaminan barang-barang ekspor
- D. subsidi kredit untuk barang-barang ekspor
- E. surat perjanjian kredit dengan luar negeri

EBTANAS-SMA-89-42

Suatu organisasi yang bertugas memberikan kredit kepada negara anggotanya terutama untuk memberikan jaminan atas kredit-kredit yang diberikan pihak lain disebut ...

- A. IMF
- B. ACAFE
- C. EOOSOC
- D. ABD
- E. IBRD

EBTANAS-SMA-89-43

Di bawah ini adalah ciri-ciri positif yang terdapat pada Demokrasi Ekonomi Indonesia, *kecuali* ...

- A. setiap warga negara berhak mendapatkan pekerjaan yang layak
- B. persaingan bebas bagi setiap orang pengusaha
- C. hak milik perseorang diakui, tetapi pemanfaatannya tidak boleh bertentangan dengan kepentingan umum
- D. produksi dikerjakan oleh semua di bawah penilikan dan pengawasan seluruh anggota masyarakat
- E. cabang-cabang produksi yang penting dan yang menguasai hajat hidup orang banyak dikuasai oleh negara

EBTANAS-SMA-89-44

Suatu komisi yang bernama "Dialog Utara Selatan" adalah suatu komisi yang bertugas mempelajari masalah ...

- A. politik dunia masa kini
- B. ekonomi benua Afrika
- C. kesenjangan ekonomi dunia
- D. ekonomi dunia Asia Pasifik
- E. ekonomi Amerika Selatan

EBTANAS-SMA-89-45

A, B, C, dan D mendirikan Firma.

A memasukkan modal sebesar Rp 1.000.000,00

B memasukkan modal sebesar Rp 600.000,00

C memasukkan modal sebesar Rp 400.000,00

D memasukkan modal sebesar Rp 450.000,00

Keuntungan Firma dalam setahun neracanya menunjukkan laba sebesar Rp 2.400.000,00. Berapa besar pembagian keuntungan yang diperoleh B?

- A. Rp 400.000,00
- B. Rp 600.000,00
- C. Rp 800.000,00
- D. Rp 1.000.000,00
- E. Rp 1.200.000,00

URAIAN

EBTANAS-SMA-89-46

Jelaskan 2 perbedaan antara pertumbuhan ekonomi dengan pembangunan ekonomi!

EBTANAS-SMA-89-47

Jelaskan 2 cara memperluas produksi!

EBTANAS-SMA-89-48

Jelaskan 2 sebab-sebab timbulnya pengangguran di Indonesia!

EBTANAS-SMA-89-49

Seseorang mempunyai tagihan di luar negeri sebesar \$ 1.000,00. Kemudian kurs belinya naik dari Rp 1.020,00 menjadi Rp 1.050,00 dan kurs jual naik dari Rp 1.050,00 menjadi Rp 1.100,00. Hitunglah perubahan (bertambah atau berkurang) jumlah tagihan orang tersebut!

EBTANAS-SMA-89-50

Jelaskan bagaimana terbentuknya harga keseimbangan! Tunjukkan dengan grafik!