

Evaluasi Belajar Tahap Akhir Nasional Tahun 1991 Ekonomi

EBTANAS-SMA-91-0

Kebutuhan primer, sekunder dan tertier adalah salah satu bentuk pembagian kebutuhan berdasarkan ...

- A. sifat
- B. intensitas
- C. subjek
- D. jenis
- E. wujud

EBTANAS-SMA-91-02

Berikut ini tindakan yang berdasarkan prinsip ekonomi adalah ...

- A. memaksakan diri membeli barang untuk memenuhi keinginan
- B. menetapkan prioritas kebutuhan dalam pembelian barang
- C. dalam menghasilkan barang hanya berdasarkan permintaan
- D. tidak memperhatikan dan mempertimbangkan harga dan kualitas barang
- E. tidak menyesuaikan pengeluaran dengan pendapatan yang diterima

EBTANAS-SMA-91-03

Yang tergolong ke dalam sistem distribusi langsung adalah ...

- A. membeli barang di pabrik dan dijual kembali kepada konsumen
- B. membeli barang dari pabrik dan langsung mengirim kepada konsumen
- C. membeli barang kepada pengecer untuk dikonsumsi sendiri
- D. membuat barang sendiri dan menjualnya kepada pedagang eceran
- E. membuat barang sendiri dan menjualnya kepada konsumen

EBTANAS-SMA-91-04

Ekstensifikasi sektor pertanian dapat dilakukan dengan ...

- A. menambah jumlah pemakaian pupuk
- B. memperbaiki sistem irigasi
- C. pemakaian bibit unggul
- D. membuka lahan baru
- E. melaksanakan tumpang sari

EBTANAS-SMA-91-05

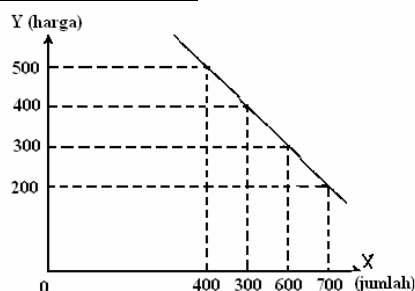
Matrik Faktor RT. KONSUMSI

Kelompok A	Kelompok B
1. Motivasi	1. Kelas sosial
2. Sikap	2. Keluarga
3. Kebudayaan	3. Kepribadian

Berdasarkan matrik faktor-faktor Rumah Tangga Konsumsi tersebut, yang termasuk faktor intern adalah

- ...
- A. A1, B1, B3
 - B. A2, B1, B3
 - C. A2, A3, B3
 - D. A3, B2, B3
 - E. A1, A2, B3

EBTANAS-SMA-91-06



Dari grafik di atas pada harga Rp 400,00 permintaan adalah ...

- A. 400 unit
- B. 500 unit
- C. 600 unit
- D. 700 unit
- E. 800 unit

EBTANAS-SMA-91-07

Bila dalam suatu pasar ada banyak produsen, tetapi terdapat unsur-unsur diferensiasi produk di antara produk-produk yang dihasilkan masing-masing produsen, pasar demikian disebut ...

- A. pasar monopoli
- B. pasar oligopoli
- C. pasar duopoli
- D. pasar monopoli
- E. pasar monopolistik

EBTANAS-SMA-91-08

Salah satu peranan pemerintah dalam menunjang laju pertumbuhan ekonomi adalah melalui kebijakan fiskal/pajak. Ketentuan perpajakan dalam UUD 1945 tercantum dalam ...

- A. pasal 23 ayat 1
- B. pasal 23 ayat 2
- C. pasal 23 ayat 3
- D. pasal 23 ayat 4
- E. pasal 23 ayat 5

EBTANAS-SMA-91-09

Faktor-faktor dalam pembangunan ekonomi

I	II	III	IV	V
1. alam	1. modal	1. penduduk	1. alam	1. modal
2. modal	2. penduduk	2. skill	2. penduduk	2. skill
3. penduduk	3. skill	3. teknologi	3. teknologi	3. teknologi

Dari faktor-faktor di atas yang menjadi penghambat pembangunan adalah ...

- A. 1
- B. II
- C. III
- D. IV
- E. V

EBTANAS-SMA-91-1

Usaha untuk menetapkan swasembada pangan dan meningkatkan industri mesin-mesin telah dimulai sejak Pelita ...

- A. V
- B. IV
- C. III
- D. II
- E. I

EBTANAS-SMA-91-11

Salah satu fungsi koperasi Indonesia sesuai Undang-undang No. 1 2 Tahun 1 967 adalah ...

- A. rapat anggota merupakan kekuasaan
- B. adanya pembatasan bunga atas modal
- C. usaha dan tata laksana bersifat terbuka
- D. sebagai salah satu uratnadi perekonomian bangsa
- E. mengembangkan kesejahteraan anggota dan masyarakat

EBTANAS-SMA-91-12

Landasan hukum berdirinya KUD adalah ...

- A. PP No.60 tahun 1959
- B. Inpres No. 2 tahun 1960
- C. UU No. 14 tahun 1965
- D. Inpres No. 4 tahun 1974
- E. Inpres No. 2 tahun 1978

EBTANAS-SMA-91-13

Harga Rp 150.000.000,00 yang dibayar oleh seorang kolektor untuk sebuah mobil keluaran tahun 1830 adalah ...

- A. nilai tukar subyektif
- B. nilai tukar batas
- C. nilai tukar obyektif
- D. nilai pakai obyektif
- E. nilai pakai subyektif •

EBTANAS-SMA-91-14

Teori nilai obyektif yang dikemukakan oleh Hume dan Locke adalah ...

- A. nilai suatu barang ditentukan oleh biaya yang dikeluarkan untuk memproduksi suatu barang
- B. nilai suatu barang ditentukan oleh biaya tenaga kerja yang digunakan untuk membuat barang tersebut
- C. nilai suatu barang ditentukan berdasarkan pada biaya rata-rata tenaga kerja masyarakat
- D. nilai suatu barang ditentukan oleh jumlah permintaan dan penawaran suatu barang yang ada di pasar
- E. nilai suatu barang didasarkan biaya yang dikeluarkan untuk memproduksi kembali suatu barang

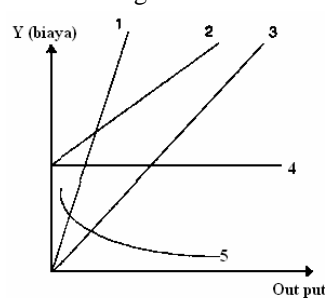
EBTANAS-SMA-91-15

Biaya yang besarnya tidak tergantung pada jumlah produksi yang dihasilkan disebut ...

- A. biaya variabel
- B. biaya tetap
- C. biaya rata-rata
- D. biaya total
- E. biaya marginal

EBTANAS-SMA-91-16

Perhatikan gambar!

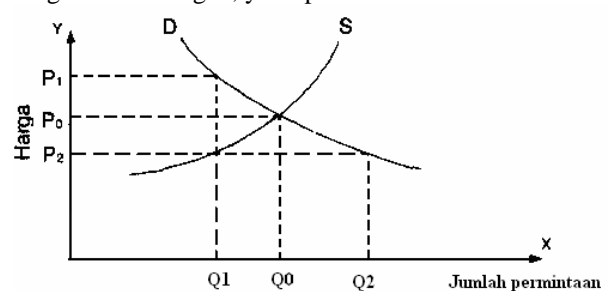


Garis yang menunjukkan biaya total di samping ini adalah ...

- A. 1
- B. 2
- C. 3
- D. 4
- E. 5

EBTANAS-SMA-91-17

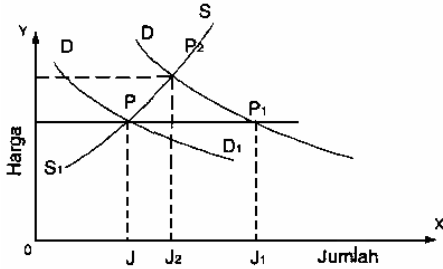
Grafik di bawah ini menggambarkan terbentuknya harga keseimbangan, yaitu pada ...



- A. harga OP1 permintaan QQ1
- B. harga OP2 permintaan QQ2
- C. harga OPO permintaa QOQ
- D. harga PP1 permintaan QQ1
- E. harga PP2 permintaan QQ2

EBTANAS-SMA-91-18

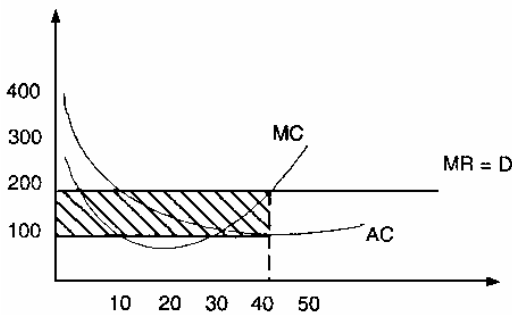
Pada harga keseimbangan harga yang dapat terjual pada jumlah OJ. Jika harga barang naik akibatnya jumlah penawaran barang bertambah sebesar ...



- A. JJ2
- B. JJ1
- C. J2J1
- D. OJ2
- E. OJ1

EBTANAS-SMA-91-19

- MC = biaya marginal
- MR = penerimaan marginal
- AC = biaya persatuan
- D = permintaan
- ▨ = keuntungan maksimum



Dari grafik di atas ini dengan memperhatikan pembentukan harga yang telah jadi maka bentuk pasarnya ...

- A. persaingan monopoli
- B. monopoli
- C. oligopoli
- D. persaingan sempurna
- E. duopoli

EBTANAS-SMA-91-20

Tindakan pemerintah untuk menetapkan harga maksimum bertujuan ...

- A. membatasi harga impor
- B. membatasi keuntungan pengusaha
- C. melindungi konsumen
- D. melindungi produsen
- E. meningkatkan ekspor

EBTANAS-SMA-91-21

Salah satu ciri dari pasar faktor produksi alam/tanah adalah ...

- A. penawaran tetap, permintaan berubah
- B. penawaran tetap, permintaan tetap
- C. penawaran berubah, permintaan tetap
- D. permintaan berubah, penawaran berubah
- E. permintaan dan penawaran seimbang

EBTANAS-SMA-91-22

Tinggi rendah sewa tanah menurut David Ricardo adalah ...

- A. tinggi rendahnya sewa tanah ditentukan oleh perbedaan letak tanah dari pusat pasar
- B. sewa tanah mutlak selama harga hasil dari penggunaan tanah tersebut masih memberikan keuntungan
- C. tinggi rendahnya sewa tanah ditentukan oleh perbedaan kesuburan tanah
- D. sewa tanah ditentukan oleh kesuburan asli tanah yang diolah
- E. sewa tanah ditentukan oleh peraturan pemerintah yang berlaku

EBTANAS-SMA-91-23

Tujuan utama dari badan usaha adalah ...

- A. menghasilkan barang/jasa sebanyak-banyaknya
- B. membantu pemerintah untuk meningkatkan ekspor
- C. meningkatkan perdagangan nasional
- D. mendapatkan laba yang setinggi-tingginya
- E. menghasilkan barang dan jasa untuk masyarakat

EBTANAS-SMA-91-2

Usaha untuk memikirkan bagaimana menjamin kelangsungan dalam menghasilkan barang-barang atau jasa merupakan fungsi badan usaha yang disebut ...

- A. organisasi
- B. personalia
- C. pembelanjaan
- D. administrasi
- E. produksi

EBTANAS-SMA-91-25

Faktor yang mempengaruhi naiknya pendapatan per kapita adalah ...

- A. kenaikan pendapatan nasional dalam pembangunan
- B. meningkatnya pertumbuhan ekonomi selama masa pembangunan
- C. naiknya pola konsumsi dalam kelompok masyarakat
- D. menurunnya jumlah penduduk akibat keberhasilan pembangunan
- E. ratio pertambahan GNP lebih besar dibandingkan pertambahan penduduk

EBTANAS-SMA-91-26

Investasi akan semakin besar, apabila ...

- A. tingkat suku bunga tinggi
- B. tingkat suku bunga rendah
- C. kemauan menabung meningkat
- D. produksi masyarakat meningkat
- E. tingkat pengangguran rendah

EBTANAS-SMA-91-27

Meningkatnya pendapatan nasional berarti meningkatkan pula kesempatan kerja, sebab ...

- A. meningkatnya pendapatan nasional, berarti meningkatkan konsumsi
- B. meningkatkan pendapatan nasional, berarti meningkatkan investasi dan kegiatan ekonomi
- C. meningkatnya pendapatan nasional, berarti meningkatkan kesejahteraan masyarakat
- D. meningkatnya pendapatan nasional, berarti meningkatkan tabungan masyarakat
- E. meningkatnya pendapatan nasional, berarti meningkatkan pendapatan per kapita

EBTANAS-SMA-91-28

Salah satu usaha pemerintah untuk meningkatkan mutu tenaga kerja dalam masa pembangunan sekarang ini dengan cara ...

- A. pemberantasan buta huruf
- B. melaksanakan program wajib belajar
- C. mendirikan Balai Latihan Kerja
- D. menggunakan teknologi tinggi
- E. menambah angkatan kerja

EBTANAS-SMA-91-29

Bila jumlah uang yang beredar 2000, kecepatan uang beredar 10 dan jumlah barang yang diperdagangkan 400, maka berdasarkan rumus $MV = PT$ yang dikemukakan Irving Fisher, nilai P adalah ...

- A. 5
- B. 40
- C. 50
- D. 80
- E. 200

EBTANAS-SMA-91-30

Apabila jumlah uang yang beredar melebihi dari yang seharusnya diperlukan dalam pertukaran, maka nilai uang merosot, dan harga barang pada umumnya terus meningkat disebut ...

- A. devaluasi
- B. sanering
- C. deflasi
- D. depresiasi
- E. inflasi

EBTANAS-SMA-91-31

Pemberian kredit kepada calon peminjam dengan memperhatikan kemampuan membayar kembali termasuk kredibilitas ...

- A. character
- B. capital
- C. collateral
- D. capacity
- E. condition

EBTANAS-SMA-91-32

Salah satu dampak positif kredit dalam masa pembangunan adalah ...

- A. memberi kesempatan berspekulasi
- B. meningkatkan ketergantungan
- C. menambah pembentukan modal
- D. memperluas kesempatan kredit
- E. meningkatkan produktivitas modal

EBTANAS-SMA-91-33

A	B	C	D	E
Bank Summa	Bank Central Asia	Bank Tabungan Negara	Bank Koperasi	Bank BNI
BDN	Bank Bumi Daya	Bank Pembangunan Nasional	Bank Industri	Bank Tabungan Negara

Dari daftar di atas yang termasuk jenis Bank Umum adalah ...

- A. kolom A dan D
- B. kolom A dan B
- C. kolom C dan D
- D. kolom C dan E
- E. kolom B dan E

EBTANAS-SMA-91-34

Fungsi pokok Bank Indonesia yang terpenting adalah ...

- A. mengatur nilai tukar uang dalam negeri dan luar negeri
- B. sebagai pusat semua Bank di Indonesia
- C. mengatur peredaran uang dan menjamin stabilitas nilai rupiah
- D. sebagai pemegang kas bagi pemerintah Indonesia
- E. mengatur lalu-lintas pembayaran giro melalui kliring

EBTANAS-SMA-91-35

Berikut ini adalah mata anggaran biaya pembangunan.

1. Bantuan proyek.
2. Bunga dan angsuran utang.
3. Belanja departemen.
4. Subsidi daerah otonom.
5. Belanja pegawai.

Yang termasuk mata anggaran rutin adalah nomor ...

- A. 1, 2 dan 3
- B. 2, 3 dan 4
- C. 3, 4 dan 5
- D. 2, 4 dan 5
- E. 1, 3 dan 5

EBTANAS-SMA-91-36

Dalam penyusunan APBN/APBD dipakai sistem seimbang, artinya ...

- A. pengeluaran tidak lebih dari penerimaan
- B. pengeluaran sama dengan penerimaan
- C. pengeluaran lebih besar dari penerimaan
- D. pengeluaran lebih kecil dari penerimaan
- E. pengeluaran besarnya tergantung penerimaan

EBTANAS-SMA-91-37

Penghasilan kena pajak dari Uman adalah sebesar Rp 26.000.000,00 maka besar pajak penghasilan (PPH) yang terhutang adalah ...

- A. Rp 3.900.000,00
- B. Rp 4.900.000,00
- C. Rp 5.500.000,00
- D. Rp 6.500.000,00
- E. Rp 9.100.000,00

EBTANAS-SMA-91-38

Pajak yang diterima pemerintah antara lain digunakan untuk memberikan ikatan dinas, tunjangan sosial, dana pensiun. Dalam hal demikian, maka pajak mempunyai fungsi ...

- A. alokasi
- B. redistribusi
- C. stabilasi
- D. sosial
- E. proteksi

EBTANAS-SMA-91-39

Teori yang menjelaskan bahwa timbulnya konjungtur yang disebabkan faktor peredaran uang di dalam masyarakat dikemukakan oleh ...

- A. Robert Malthus
- B. J.M. Keynes
- C. Pigou
- D. Aftalion
- E. Hawtrey

EBTANAS-SMA-91-40

Pengaruh konjungtur ekonomi dunia akan berpengaruh terhadap ekonomi Indonesia karena ...

- A. perekonomian Indonesia terpengaruh negara maju
- B. bantuan ekonomi berasal dari negara-negara maju
- C. modal asing akan berpengaruh terhadap kegiatan ekonomi
- D. ada saling ketergantungan antara negara satu dengan yang lainnya
- E. perekonomian dunia tergantung pada mata uang dolar

EBTANAS-SMA-91-41

D. Impor (-)		K. Ekspor (+)	
Kayu lapis	Rp. 30.000.000	Mobil	Rp. 45.000.000
Migas	Rp. 50.000.000	Sepeda motor	Rp. 32.000.000
Teh	Rp. 6.000.000	Pesawat TV	Rp. 8.000.000
Tembakau	Rp. 11.000.000	Sandang	Rp. 10.000.000
Dil.	Rp. 15.000.000	Beras	Rp. 14.000.000
Saldo	Rp. 19.000.000	Dil.	Rp. 14.000.000
	Rp. 131.000.000		Rp. 131.000.000

Neraca perdagangan negara di atas mencerminkan ...

- A. devisa negara A meningkat
- B. nilai ekspor lebih besar dari nilai impor
- C. nilai barang ekspor lebih kecil dari nilai impor
- D. pertumbuhan produksi dalam negeri seimbang
- E. nilai ekspor sama dengan nilai impor

EBTANAS-SMA-91-42

Membatasi barang-barang dari luar negeri masuk ke dalam negeri dinamakan politik ...

- A. dumping
- B. kuota
- C. subsidi
- D. tarif
- E. proteksi

EBTANAS-SMA-91-43

Seorang usahawan akan berangkat ke Hongkong mempunyai uang sejumlah Rp 24.000.000,00 saat itu di Bank mencatat kurs jual Rp 1.890,00 dan kurs beli Rp 1.865,00, maka ia menerima ...

- A. \$ 12.698,41
- B. \$ 12.798,42
- C. \$ 12.848,42
- D. \$ 12.858,63
- E. \$ 12.868,63

EBTANAS-SMA-91-44

Untuk menyelesaikan pembayaran internasional, eksportir dapat membuka L/C. yaitu ...

- A. kredit dengan jaminan surat-surat berharga
- B. kredit dengan jaminan dokumen ekspor
- C. surat jaminan kredit untuk ekspor
- D. surat kepercayaan tagihan kepada importir
- E. surat tanda bukti ekspor

EBTANAS-SMA-91-45

Hubungan ekonomi Indonesia dengan luar negeri menyangkut:

1. ekspor impor barang
2. ekspor impor jasa
3. utang piutang dengan luar negeri
4. pengurangan/tambahan cadangan devisa

Dari transaksi tersebut di atas yang termasuk *capital account* adalah ...

- A. transaksi 1
- B. transaksi 2
- C. transaksi 3
- D. transaksi 4
- E. transaksi 2 dan 4

EBTANAS-SMA-91-46

Pemerintah Jepang sepakat mengadakan tukar-menukar barang/jasa dengan negara-negara: Korea Selatan, Jerman Barat dan Inggris. Kesepakatan itu dapat digolongkan dalam kerja sama ...

- A. Internasional
- B. antarregional
- C. Multilateral
- D. Regional
- E. Bilateral

EBTANAS-SMA-91-47

Berikut adalah daftar negara-negara donatur:

1. Thailand
2. Kanada
3. Jerman Barat
4. Arab Saudi
5. Korea selatan
6. Selandia Baru
7. Australia

Yang termasuk negara-negara donatur IGGI di atas adalah ...

- A. 1, 4, 5
- B. 2, 3, 7
- C. 2, 3, 5
- D. 6, 7, 3
- E. 2, 3, 4

EBTANAS-SMA-91-48

Tingkat pertumbuhan perekonomian yang terakhir menurut Karl Bucher adalah ...

- A. perekonomian bangsa
- B. perekonomian kredit
- C. perekonomian kapitalis
- D. masa konsumsi tinggi
- E. masa perekonomian dunia

EBTANAS-SMA-91-49

Tingkat pertumbuhan perekonomian menurut F. List adalah ...

- A. masa barter, masa jual beli, dan masa kredit
- B. perekonomian tertutup, perekonomian kota, perekonomian bangsa, dan perekonomian dunia
- C. prakapitalisme, kapitalisme purba, kapitalisme madya, kapitalisme raya
- D. masyarakat gembala, petani, pertanian industri, industri perdagangan
- E. tradisional, transisi, lepas landas, maturity, konsumsi tinggi

EBTANAS-SMA-91-50

Pemerintah memprioritaskan pembangunan dalam sektor ekonomi dengan maksud ...

- A. meningkatkan kesejahteraan rakyat dan mendorong pembangunan di sektor lain
- B. meningkatkan ekspor Indonesia di sektor nonmigas
- C. mempertahankan posisi Indonesia sebagai negara agraris
- D. mewujudkan Indonesia sebagai negara Industri yang tangguh
- E. menyeimbangkan antara pembangunan fisik dan bidang spiritual

EBTANAS-SMA-91-51

Pembangunan harus berwawasan menjaga kelestarian lingkungan hidup karena ...

- A. akan menjamin dan memperlancar usaha masyarakat mencapai hidup sejahtera menuju masyarakat adil dan makmur
- B. agar kelestarian sumber alam dan lingkungan hidup dapat dipertahankan untuk menunjang pembangunan seutuhnya
- C. agar kelestarian sumber alam dan lingkungan hidup dapat dipergunakan untuk kepentingan generasi penerus
- D. sumber alam adalah modal utama bagi setiap bangsa dalam pengembangan dan pertumbuhan ekonomi
- E. lingkungan hidup dan sumber alam sangat diperlukan dan menjadi modal dasar bagi bidang-bidang pembangunan suatu bangsa

EBTANAS-SMA-91-52

Berikut adalah ciri-ciri salah satu teori ekonomi, yaitu:

- segala sesuatu di dunia tunduk pada hukum alam
- sumber kemakmuran adalah alam
- produksi adalah menambah jumlah barang

Ciri-ciri di atas berasal dari teori ...

- A. klasik
- B. fisiokrat
- C. historis
- D. Austria
- E. Manchester

EBTANAS-SMA-91-53

Ciri utama sistem ekonomi nasional (demokrasi ekonomi Indonesia) adalah ...

- A. sektor swasta menguasai perekonomian dengan bantuan dari pemerintah
- B. pemerintah menguasai sektor-sektor ekonomi penting bersama koperasi
- C. sektor usaha koperasi dan sektor swasta sebagai kekuatan ekonomi rakyat
- D. pemerintah mendominasi penuh semua kegiatan ekonomi agar tidak dimonopoli swasta
- E. rakyat memegang peranan aktif dalam kegiatan ekonomi dan pemerintah sebagai perencana, pembimbing, dan pengawas

EBTANAS-SMA-91-54

Tujuan yang hendak dicapai melalui tata ekonomi dunia baru oleh kelompok Roma adalah ...

- A. tercapainya pemerataan pendistribusian sumber-sumber alam
- B. penghapusan dominasi dan persaingan antar negara kaya
- C. bersama-sama berusaha meningkatkan kesejahteraan negara berkembang
- D. menelaah dan mengkaji permasalahan ekonomi dunia untuk kesejahteraan bersama
- E. memanfaatkan faktor produksi alam negara berkembang secara optimal

EBTANAS-SMA-91-55

Faktor yang mempengaruhi pengelolaan badan usaha antara lain:

1. tenaga kerja
2. prasarana
3. kondisi
4. peraturan pemerintah
5. dana

Yang tergolong faktor intern badan usaha adalah ...

- . 1, 5 dan 4
- . 2, 3 dan 5
- . 1, 2 dan 5
- . 3, 4 dan 5
- . 2, 4 dan 5

EBTANAS-SMA-91-56

Ciri-ciri BUMN antara lain:

1. Bidang usaha dimonopoli pemerintah
2. Pegawainya berstatus pegawai negeri sipil
3. Usahanya melayani masyarakat
4. Perusahaannya berbentuk PT
5. Modalnya 51% milik pemerintah

Dari ciri-ciri di atas yang merupakan ciri Perusahaan Jawatan (Perjan) adalah ...

- A. 2, 3, 5
- B. 1, 3, 5
- C. 3, 4, 5
- D. 2, 3, 4
- E. 1, 2, 3

EBTANAS-SMA-91-57

Tugas perlengkapan koperasi antara lain:

1. memimpin organisasi dan usaha koperasi
2. menetapkan besarnya simpanan pokok dan wajib
3. menetapkan/mengubah dan menyempurnakan anggaran dasar
4. melakukan pemeriksaan terhadap kegiatan dan kehidupan koperasi
5. menetapkan anggaran belanja dan pengesahan neraca

Berdasarkan tugas di atas sebagai tugas Rapat Anggota adalah ...

- A. 1, 2 dan 3
- B. 2, 3 dan 5
- C. 3, 4 dan 5
- D. 1, 4 dan 5
- E. 2, 3 dan 4

EBTANAS-SMA-91-58

Modal koperasi terdiri dari:

1. Simpanan pokok
2. Simpanan wajib
3. Penerimaan kredit
4. Pinjaman dari Bank
5. Bantuan dari pemerintah

Dari modal tersebut di atas yang bersumber dari luar anggota adalah ...

- . 1, 2, 3
- . 2, 3, 4
- . 3, 4, 5
- . 1, 2, 5
- . 2, 3, 5

EBTANAS-SMA-91-59

Laporan keuangan yang harus disampaikan oleh pengurus dalam Rapat Anggota Tahunan antara lain ...

- A. laporan rugi laba, neraca, perubahan modal
- B. laporan rugi laba, neraca lajur
- C. jurnal, buku besar, neraca lajur
- D. daftar simpanan dan daftar pinjaman
- E. buku kas, daftar persediaan barang

EBTANAS-SMA-91-60

Helder duduk di kelas 2 SMA Negeri 2 Dilli. Dia adalah anggota koperasi sekolah. Setelah kenaikan kelas, dia mengajukan pindah mengikuti orang tuanya pindah ke daerah. Kepindahan tersebut kaitannya dengan keanggotaan koperasi adalah ...

- A. berakhir sebagai anggota tapi masih berhak mendapat pembagian SHU
- B. berakhir sebagai anggota koperasi sekkolah sekaligus hak dan kewajibannya
- C. kepindahan Helder ke daerah tidak berpengaruh terhadap kenggotaan koperasi
- D. berakhir sebagai anggota, jika ia mengajukan permohonan berhenti
- E. belum berakhir sebagai anggota sebelum dia menarik simpanan suka relanya