

# Evaluasi Belajar Tahap Akhir Nasional Tahun 1992 Ekonom

## EBTANAS-SMA-92-01

Di bawah ini merupakan kegiatan-kegiatan ekonomi:

1. Nelayan menangkap ikan di laut
2. Penjual sayur menjajakan dagangannya
3. Yohanes membeli alat-alat sekolah
4. Vira menikmati kue buatan ibu

Yang termasuk kegiatan konsumsi adalah ...

- A. No. 1 dan 2
- B. No. 1 dan 3
- C. No. 2 dan 3
- D. No. 2 dan 4
- E. No. 3 dan 4

## EBTANAS-SMA-92-02

Untuk melaksanakan kegiatan produksi diperlukan faktorproduksi:

1. alam
2. tenaga kerja
3. modal
4. skill

Yang termasuk faktor produksi asli adalah ...

- A. 1 dan 2
- B. 1 dan 3
- C. 1 dan 4
- D. 2 dan 3
- E. 3 dan 4

## EBTANAS-SMA-92-03

Seorang pengusaha yang berhasil dalam usahanya masih berusaha untuk memperluas usahanya, hal yang mendorong adalah keinginan untuk ...

- A. dipuji
- B. dihormati
- C. makmur
- D. berbuat sosial
- E. berkuasa

## EBTANAS-SMA-92-04

Contoh kegiatan produksi:

1. pertanian
2. kehutanan
3. perikanan
4. industri tekstil
5. perhotelan

Dari contoh di atas yang termasuk kegiatan produksi primer adalah ...

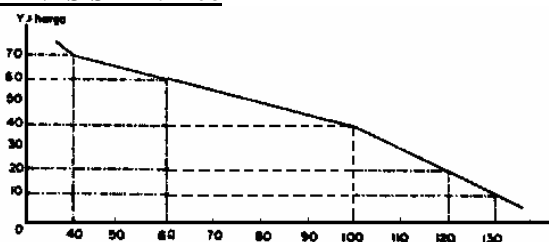
- A. pertanian, kehutanan, dan perikanan
- B. pertanian, perikanan, dan industri tekstil
- C. kehutanan, perikanan, dan perhotelan
- D. industri tekstil, perhotelan, dan pertanian
- E. industri tekstil, perhotelan, dan perikanan

## EBTANAS-SMA-92-05

Jumlah nilai semua balas jasa yang diterima faktor-faktor produksi setelah dikurangi pajak tidak langsung, adalah merupakan ...

- A. Produksi Nasional Netto
- B. Pendapatan Nasional Netto
- C. Produksi Nasional Bruto
- D. Pendapatan Perseorangan
- E. Pendapatan Bebas

## EBTANAS-SMA-92-06



Pada kurva permintaan di atas Jumlah barang yang diminta pada harga Rp 60,00 sebanyak ...

- A. 50 unit
- B. 60 unit
- C. 70 unit
- D. 90 unit
- E. 100 unit

## EBTANAS-SMA-92-07

Berikut ini adalah kegiatan distribusi:

1. produsen rokok → konsumen
2. pedagang rokok → konsumen
3. produsen padi → konsumen
4. pedagang beras → konsumen
5. toko koperasi → konsumen

Yang termasuk distribusi langsung adalah ...

- A. 1 dan 2
- B. 1 dan 3
- C. 2 dan 3
- D. 3 dan 4
- E. 4 dan 5

## EBTANAS-SMA-92-08

Dibawah ini adalah kegiatan pemasaran:

1. mempertahankan jumlah persediaan ideal
2. pengelompokan menurut ukuran
3. pembelian dan aktivitas perakitan
4. penentuan jenis menurut kandungan isi

Yang termasuk fungsi standarisasi adalah ...

- A. 1 dan 2
- B. 1 dan 3
- C. 1 dan 4
- D. 2 dan 4
- E. 3 dan 4

**EBTANAS-SMA-92-09**

- Motif utama pembangunan adalah ...
- A. peningkatan kesejahteraan masyarakat
  - B. kegiatan peningkatan kebudayaan
  - C. keinginan akan pertumbuhan ekonomi
  - D. pengembangan sektor ekonomi
  - E. peningkatan jumlah penduduk

**EBTANAS-SMA-92-10**

Berikut ini tarif pajak atas penghasilan kena pajak (PKP).

- a. sampai dengan jumlah Rp 10.000.000,00 15%;
- b. di atas Rp 10.000.000,00 s/d Rp 50.000.000,00 25%;
- c. di atas jumlah Rp 50.000.000,00 35%.

Bila penghasilan kena pajak (PKP) sebesar Rp. 80.000.000,00, maka besar pajak penghasilan yang terutang adalah ...

- A. Rp 12.000.000,00
- B. Rp 20.000.000,00
- C. Rp 22.000.000,00
- D. Rp 28.000.000,00
- E. Rp 32.000.000,00

**EBTANAS-SMA-92-11**

Rencana pembangunan lima tahun ke-V menitik beratkan pada ...

- A. sektor pertanian, sektor industri yang mengolah bahan mentah menjadi bahan baku.
- B. sektor pertanian, untuk memantapkan swasembada pangan, sektor industri ringan maupun berat yang menghasilkan mesin-mesin sendiri
- C. sektor pertanian dalam usaha memantapkan swasembada pangan, meningkatkan industri pariwisata
- D. sektor pertanian, industri yang mengolah bahan mentah menjadi bahan baku dan barang jadi.
- E. sektor pertanian, industri dan perhubungan serta pembangunan-pembangunan di berbagai sektor.

**EBTANAS-SMA-92-12**

Matriks Asas dan Sendi Koperasi

No.	I	II
1	Usaha dan ketatalaksanaan yang bersifat terbuka	Sifat keanggotaannya sukarela dan terbuka
2	Kesadaran pribadi untuk bekerjasama	Bersifat gotong royong

Dari matriks di atas yang tergolong sendi dasar koperasi adalah ...

- A. I.1, I.2.
- B. I.1, II.1
- C. I.1, II.2
- D. II.1, II.2
- E. I.2, II.2


**EBTANAS-SMA-92-13**

Nilai suatu barang bergantung dari jumlah biaya untuk pembuatan barang tersebut. Pernyataan tersebut dicetuskan oleh ...

- A. Adam Smith
- B. David Ricardo
- C. Carrey
- D. Humme & Locke
- E. Karl Marx

**EBTANAS-SMA-92-14**

Perhatikan kurva biaya di bawah ini:



Berdasarkan data di atas, maka kurva biaya rata-rata adalah ...

- A. I
- B. II
- C. III
- D. IV
- E. V

**EBTANAS-SMA-92-15**

Faktor-faktor yang mempengaruhi permintaan dan penawaran:

1. Pendapatan rata-rata
2. Biaya faktor produksi
3. Distribusi pendapatan
4. Harga barang yang lain

Faktor-faktor yang mempengaruhi penawaran adalah ...

- A. 1 dan 2
- B. 1 dan 3
- C. 1 dan 4
- D. 2 dan 4
- E. 3 dan 4

**EBTANAS-SMA-92-16**

Di bawah ini daftar perubahan harga dan permintaan

No.	Harga	Permintaan
1.	Rp 500,00	110 buah
2.	Rp 200,00	120 buah

Berdasarkan tabel di atas elastisitas permintaannya adalah ...

- A. E = 1
- B. E > 1
- C. E = 0
- D. E < 1
- E. E = ~

**EBTANAS-SMA-92-17**

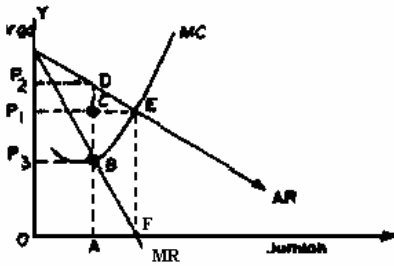


Diagram pembentukan harga pada pasar monopoli ini, di mana harga monopoli setinggi ...

- A.  $OP_2$
- B. AC
- C. FE
- D.  $OP_2$
- E.  $OP_3$

**EBTANAS-SMA-92-18**

Pembayaran upah berdasarkan prestasi kerja yang dapat diukur, dihitung dan ditimbang, merupakan sistem upah ...

- A. waktu
- B. satuan
- C. borongan
- D. partisipasi
- E. indeks

**EBTANAS-SMA-92-19**

Mencari keuntungan, tetapi tidak mengabaikan kesejahteraan masyarakat merupakan ciri badan usaha milik negara yang berbentuk ...

- A. Firma
- B. Komanditer
- C. Persero
- D. Perum
- E. Indeks

**EBTANAS-SMA-92-20**

Faktor pertimbangan ekonomi pemilihan tempat kedudukan badan usaha adalah ...

- A. tenaga kerja
- B. alam
- C. keamanan
- D. sejarah
- E. lingkungan

**EBTANAS-SMA-92-21**

Pendapatan nasional didistribusikan kepada yang berjasa dalam produksi yaitu ...

- A. pemilik modal
- B. tenaga kerja
- C. pemilik faktor produksi
- D. pemilik perusahaan
- E. pemimpin perusahaan

**EBTANAS-SMA-92-22**

Faktor-faktor yang mempengaruhi pembentukan investasi adalah ...

- A. pendapatan dan konsumsi
- B. produksi dan distribusi
- C. pendapatan dan tabungan
- D. konsumsi dan distribusi
- E. produksi dan jumlah penduduk

**EBTANAS-SMA-92-23**

Kesempatan kerja dapat diartikan sebagai berikut ...

- A. jumlah seluruh penduduk dalam suatu negara yang dapat memproduksi barang dan jasa
- B. bagian tenaga kerja yang sesungguhnya terlibat dalam kegiatan produksi barang dan jasa
- C. mereka yang sedang aktif mencari pekerjaan dalam negeri maupun luar negeri
- D. jumlah penduduk angkatan kerja yang dapat diserap oleh suatu permintaan tenaga kerja
- E. mereka yang tidak sedang mencari pekerjaan di dalam negeri maupun di luar negeri.

**EBTANAS-SMA-92-24**

Berikut ini merupakan akibat positif pembangunan proyek padat karya, terhadap kesempatan kerja, *kecuali* ...

- A. menambah kesempatan kerja
- B. menambah produksi masyarakat
- C. menambah pendapatan nasional
- D. menambah permintaan kredit
- E. mengurangi pengangguran

**EBTANAS-SMA-92-25**

Yang termasuk fungsi turunan uang adalah sebagai ...

- A. alat pembayaran dan penimbunan kekayaan
- B. alat tukar dan satuan hitung
- C. alat pembayaran dan satuan hitung
- D. penimbun kekayaan dan satuan hitung
- E. penimbun kekayaan dan alat tukar

**EBTANAS-SMA-92-26**

Pemerintah selalu berusaha meningkatkan daya beli uang karena ...

- A. daya beli uang rupiah tinggi tidak memerlukan lagi pinjaman luar negeri dalam waktu singkat
- B. daya beli rupiah naik menyebabkan pendapatan masyarakat meningkat
- C. daya beli rupiah meningkat, dapat menghapus pungutan pajak
- D. daya beli naik, kurs rupiah akan turun terhadap valuta asing
- E. daya beli tinggi, semakin banyak barang dan jasa yang dapat diperoleh.

**EBTANAS-SMA-92-27**

Pemilik modal dapat meminjamkan uangnya untuk keperluan produksi, pernyataan ini merupakan fungsi kredit sebagai ...

- A. jembatan untuk meningkatkan pendapatan nasional
- B. alat hubungan ekonomi internasional
- C. pembangkit kegairahan berusaha masyarakat
- D. peningkatan peredaran dan lalu lintas uang
- E. meningkatkan daya guna modal

**EBTANAS-SMA-92-28**

Kredibilitas seseorang dalam menerima kredit ditentukan oleh kemampuan untuk membayar kembali pinjamannya. Pernyataan tersebut dalam kredit dikenal dengan syarat ...

- A. character
- B. capacity
- C. capital
- D. collateral
- E. condition

**EBTANAS-SMA-92-29**

Lembaga perkreditan dalam penyediaan dana berfungsi sebagai ...

- A. penampung cicilan kredit masyarakat
- B. penghubung antara pemberi dengan penerima kredit
- C. penggali sumber-sumber kredit untuk pemerintah
- D. penyalur kredit untuk membangun proyek-proyek pemerintah
- E. penerima bantuan luar negeri untuk pemerintah.

**EBTANAS-SMA-92-30**

Pengertian bank menurut Undang-undang Pokok Perbankan No. 14 tahun 1967 adalah ...

- A. lembaga keuangan yang usaha pokoknya memberikan kredit dan jasa dalam lalu lintas pembayaran
- B. lembaga keuangan yang menyalurkan dana dan masyarakat melalui tabungan
- C. lembaga keuangan yang menyalurkan dana dan masyarakat dalam bentuk kredit
- D. lembaga yang melancarkan transaksi perdagangan dan pembayaran uang
- E. lembaga keuangan yang menyediakan modal bagi perusahaan

**EBTANAS-SMA-92-31**

Sumber pendapatan negara:

1. penerimaan pungutan ekspor
2. penerimaan kredit luar negeri
3. penerimaan bantuan proyek
4. penerimaan uang pendidikan (SPP)

Yang tergolong sumber pendapatan rutin adalah ...

- A. 1 dan 2
- B. 1 dan 3
- C. 1 dan 4
- D. 2 dan 4
- E. 3 dan 4

**EBTANAS-SMA-92-32**

Yang disebut asas seimbang dalam penyusunan APBN ialah ...

- A. penerimaan negara sama dengan pengeluaran negara
- B. penerimaan rutin sama dengan pengeluaran rutin
- C. penerimaan pembangunan sama dengan pengeluaran pembangunan
- D. penerimaan sektor industri sama dengan pengeluaran pembangunan
- E. penerimaan sektor pajak sama dengan pengeluaran rutin

**EBTANAS-SMA-92-33**

Dalam pasal 23 UUD 1945 ditetapkan bahwa penarikan pajak berdasarkan undang-undang. Hal ini tercantum pada ayat ...

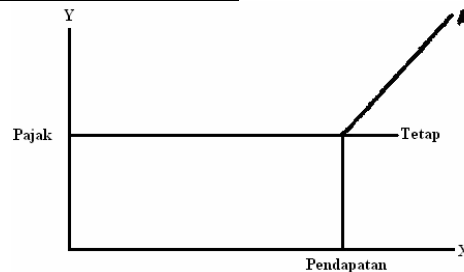
- A. 5
- B. 4
- C. 3
- D. 2
- E. 1

**EBTANAS-SMA-92-34**

Berikut ini merupakan pajak dalam pembangunan, kecuali ...

- A. mengurangi ketergantungan dari luar negeri
- B. untuk membiayai pembangunan
- C. salah satu sumber penerimaan negara
- D. untuk pemerataan pendapatan
- E. menurunkan tingkat inflasi

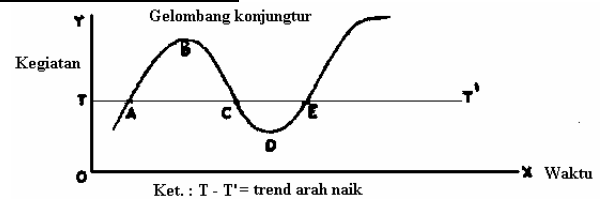
**EBTANAS-SMA-92-35**



Cara pungutan pajak dalam grafik di atas (A) menggunakan sistem ...

- A. proporsional
- B. regresif
- C. degresif
- D. progresif
- E. tetap

**EBTANAS-SMA-92-36**



Berdasarkan grafik konjungtur di atas masa prosperity (perluasan), yaitu ...

- A. A → B
- B. B → C
- C. C → D
- D. D → E
- E. E → F

**EBTANAS-SMA-92-37**

Di bawah ini adalah beberapa faktor yang menyebabkan timbulnya perdagangan internasional, kecuali ...

- A. perbedaan sumber alam
- B. perbedaan ideologi politik
- C. perbedaan tingkat keterampilan penduduk
- D. perbedaan kapasitas produksi
- E. adanya pembagian kerja internasional

**EBTANAS-SMA-92-38**

Kebijakan pemerintah dalam perdagangan internasional, yaitu menentukan harga barang produksi di dalam negeri lebih mahal dibandingkan dengan harga barang yang dijual keluar negeri. Hal ini dinamakan politik ...

- A. proteksi
- B. subsidi
- C. tarif
- D. kuota
- E. dumping

**EBTANAS-SMA-92-39**

Seorang turis dari Amerika datang ke Indonesia dengan membawa uang \$ 6.000 Amerika. Uang itu ditukarkan ke BNI 1946. Pada saat itu kurs beli US \$ 1 = Rp. 1910,00, Kurs jual US \$ 1 = Rp 1.925,00. Uang rupiah yang diterima oleh turis adalah ...

- A. Rp 11.400.000,00
- B. Rp 11.460.000,00
- C. Rp 11.500.000,00
- D. Rp 11.550.000,00
- E. Rp 11.600.000,00

**EBTANAS-SMA-92-40**

Salah satu fungsi-pasar valuta asing adalah ...

- A. penyediaan fasilitas atas barang ekspor
- B. mempermudah transaksi ekspor impor
- C. mempercepat arus barang keluar negeri
- D. memperlancar pembayaran internasional
- E. penyediaan fasilitas atas barang impor

**EBTANAS-SMA-92-41**

Tata cara pembayaran internasional dengan commercial bill of exchange adalah ...

- A. penagihan pembayaran dengan surat perintah membayar kepada importir
- B. merupakan cek yang diteruskan melalui telepon atau radio dan telegram
- C. cara pembayaran yang diterima eksportir tanpa menunggu berita dari bank
- D. penyelesaian utang-piutang penduduk suatu negara ke negara lain
- E. pembayaran baru dilakukan beberapa waktu setelah menerima pemberitahuan dari bank devisa

**EBTANAS-SMA-92-42**

Matrik hubungan kerja sama ekonomi antarnegara.

1. Indonesia – Jepang
2. Indonesia – Malaysia – Singapura – Filipina – Muangthai
3. Indonesia – Denmark – Belgia
4. Inggris – Belgia – Belanda – Malaysia – Singapura
5. Bangladesh – India – Italia – Indonesia

Berdasarkan matrik di atas, yang merupakan kerja sama regional adalah nomor ...

- A. 1
- B. 2
- C. 3
- D. 4
- E. 5

**EBTANAS-SMA-92-43**

Sebagai badan kerja sama keuangan internasional, IMF mempunyai tujuan ...

- A. mengadakan pengurangan tarif untuk barang-barang tertentu yang merintang perdagangan internasional
- B. mengkaji dan memecahkan masalah-masalah ekonomi dunia yang rumit dan kompleks
- C. memberikan bantuan kredit bagi pelaksanaan pembangunan di wilayah Indonesia
- D. memperbaiki dan membangun daerah-daerah yang mengalami kerusakan karena perang
- E. membantu negara-negara anggota mengatasi ketimpangan neraca pembayaran luar negeri.

**EBTANAS-SMA-92-44**

Tingkat pertumbuhan ekonomi menurut Freederich List diawali dengan tingkat perekonomian ...

- A. rumah tangga tertutup
- B. prakapitalisme
- C. pengumpul hasil alam
- D. masa tradisional
- E. masa barter

**EBTANAS-SMA-92-45**

Salah satu ukuran pertumbuhan ekonomi klasik adalah ...

- A. sumber alam, jumlah penduduk dan modal
- B. teknik produksi suatu barang
- C. berdasarkan sarana/alat yang dipergunakan
- D. berdasarkan jarak antara produsen dan konsumen
- E. adanya akumulasi modal yang dipergunakan dengan teknologi

**EBTANAS-SMA-92-46**

Perkembangan perekonomian negara dapat diukur melalui ...

- A. proses pembangunan
- B. kurun waktu yang diperlukan
- C. sistem distribusi
- D. meningkatnya bantuan luar negeri
- E. pendapatan perkapita

**EBTANAS-SMA-92-47**

Ciri-ciri pembangunan ketat adalah ...

- A. perencanaan pembangunan, produksi, distribusi dan konsumsi diatur oleh negara
- B. pusat perencanaan dilaksanakan oleh pemerintah sedangkan pelaksanaannya oleh masyarakat
- C. pemerintah pusat memegang kekuasaan dalam pembangunan sedang pelaksanaannya oleh pemerintah daerah
- D. program pembangunan nasional merupakan bentuk produk dari perundang-undangan
- E. program pembangunan politik merupakan program pembangunan dari pembangunan nasional

**EBTANAS-SMA-92-48**

Jumlah penduduk yang besar akan menjadi faktor mendorong pembangunan bila ...

- A. jumlah penduduk padat
- B. rasio ketergantungan tinggi
- C. angka pertambahan penduduk tinggi
- D. penduduk berdaya beli tinggi
- E. penyebaran penduduk merata

**EBTANAS-SMA-92-49**

Yang menjadi sumber kemakmuran menurut teori klasik adalah ...

- A. kerja yang produktif
- B. perdagangan luar negeri
- C. pertanian yang kuat
- D. industri yang maju
- E. kemajuan teknologi

**EBTANAS-SMA-92-50**

Berikut ini adalah ciri ekonomi terpusat dan liberal

- 1. produksi dan distribusi ditentukan swasta
- 2. produksi dan distribusi ditentukan negara
- 3. terdapat persaingan antar pengusaha
- 4. kebebasan berusaha tidak ada
- 5. kegiatan produksi bertujuan untuk mencari laba

Ciri-ciri sistem ekonomi liberal ...

- A. 1, 2 dan 3
- B. 1, 3 dan 4
- C. 1, 3 dan 5
- D. 2, 3 dan 4
- E. 3, 4 dan 5

**EBTANAS-SMA-92-51**

Timbulnya dialog Utara Selatan dalam pembentukan tata ekonomi dunia baru bertujuan ...

- A. menelaah dan mengkaji masalah dunia yang rumit dan kompleks
- B. mengurangi permintaan pangan karena lahan semakin sempit
- C. menurunkan harga energi agar jangan menghambat peningkatan produksi pertanian
- D. usaha mengatasi bencana alam yang dapat mengakibatkan rusaknya tanaman pangan
- E. memelihara hubungan baik, saling membantu demi terwujudnya kesejahteraan bersama

**EBTANAS-SMA-92-52**

Fungsi pengelolaan badan usaha antara lain :

No.	Kegiatan
1	Menetapkan tujuan yang akan di capai
2	Menentukan orang yang akan melaksanakan tugas
3	Menentukan batas tanggung jawab/wewenang
4	Mengawasi pekerjaan bawahan

Dari fungsi di atas yang termasuk fungsi pengorganisasian adalah ...

- A. 1, 2
- B. 1, 3
- C. 1, 4
- D. 2, 3
- E. 3, 4

**EBTANAS-SMA-92-53**

Yang merupakan kegiatan dalam pengelolaan usaha antara lain:

- 1. Mengatur pola kerja sama manusia.
- 2. Mengadakan bimbingan kepada petugas.
- 3. Menentukan terlebih dahulu apa yang akan dikerjakan.
- 4. Memeriksa hasil kerja apakah sudah sesuai dengan rencana.
- 5. Merancang bagaimana jalannya pekerjaan.

Dari kegiatan di atas yang merupakan kegiatan fungsi perencanaan adalah ...

- A. 1 dan 2
- B. 2 dan 4
- C. 3 dan 4
- D. 3 dan 5
- E. 4 dan 5

**EBTANAS-SMA-92-54**

Yang menjadi faktor intern dalam pengelolaan badan usaha adalah ...

- A. kondisi, situasi, kebutuhan, dan dana
- B. sarana, prasarana, tenaga dan dana
- C. kondisi, prasarana, kebutuhan dan dana
- D. sarana, kebutuhan, situasi dan peraturan pemerintah
- E. kondisi, situasi, kebutuhan dan peraturan pemerintah

**EBTANAS-SMA-92-55**

Peran sektor swasta dalam demokrasi ekonomi tertera pada pasal 33 UUD 1945 ayat ...

- A. 1
- B. 2
- C. 3
- D. 1 dan 2
- E. 1, 2 dan 3

**EBTANAS-SMA-92-56**

Pertanggungjawaban manajer koperasi di sampaikan kepada ...

- A. Departemen koperasi
- B. Badan pemeriksa
- C. Rapat anggota
- D. Pengurus
- E. Dekopin

**EBTANAS-SMA-92-57**

Modal koperasi bersumber dari:

- 1. Simpanan pokok
- 2. Simpanan wajib
- 3. Bantuan pemerintah
- 4. Pinjaman-pinjaman
- 5. Simpanan sukarela anggota

Yang termasuk modal sendiri dari data di atas adalah nomor ...

- A. 1, 2, dan 4
- B. 1, 2, dan 5
- C. 2, 3, dan 4
- D. 2, 3, dan 5
- E. 3, 4, dan 5

**EBTANAS-SMA-92-58**

Yang bertanggung jawab mengendalikan modal koperasi adalah ...

- A. Rapat anggota
- B. Badan pemeriksa
- C. Pejabat koperasi
- D. Manajer
- E. Pengurus

**EBTANAS-SMA-92-59**

Dalam proses akuntansi koperasi antara 1 Januari sampai dengan Desember, kegiatan awal yang dilakukan pengurus adalah ...

- A. mengadakan pencatatan melalui jurnal dan buku besar
- B. membuat dan menyusun neraca tahunan
- C. membuat ikhtiar buku besar dalam neraca lajur
- D. menyusun neraca lajur dan laporan keuangan
- E. membuat daftar anggota dan buku simpanan

**EBTANAS-SMA-92-60**

Laporan keuangan koperasi yang harus disampaikan pada RAT terdiri dari ...

- A. kas, neraca lajur, laporan rugi laba
- B. kas, neraca, laporan rugi laba
- C. neraca, laporan rugi laba dan laporan perubahan modal
- D. neraca lajur, laporan rugi laba, laporan modal
- E. kas, neraca laju, laporan modal