

Evaluasi Belajar Tahap Akhir Nasional

Tahun 1993

Ekonomi

EBTANAS-SMA-93-01

Pembagian kebutuhan atas kebutuhan primer, sekunder, dan tertier, termasuk ...

- A. intensitas kegunaan
- B. wujud kebutuhan
- C. bentuk dan sifat
- D. waktu penggunaan
- E. subjek yang membutuhkan

EBTANAS-SMA-93-02

Tindakan perusahaan tahu yang membeli kedelai di pasar untuk bahan baku dapat digolongkan ke dalam kegiatan ekonomi ...

- A. produksi
- B. distribusi
- C. konsumsi
- D. perdagangan
- E. pemasaran

EBTANAS-SMA-93-03

Badan usaha swasta yang anggotanya terdiri dari anggota persero aktif dan pasif ialah ...

- A. badan usaha perseorangan
- B. persekutuan firma
- C. perseroan terbatas
- D. persekutuan komanditer
- E. perusahaan campuran

EBTANAS-SMA-93-04

Berikut ini adalah cara memperluas produksi:

1. memperluas lahan pertanian
2. pemberian pupuk dan penggunaan bibit unggul
3. keterampilan kerja melalui latihan kepada karyawan
4. memperluas areal atau lokasi lahan

Yang termasuk cara memperluas produksi insentif adalah nomor...

- A. 1, 3
- B. 2, 3
- C. 1, 4
- D. 2, 4
- E. 3, 4

EBTANAS-SMA-93-05

Faktor intern yang mempengaruhi tingkat konsumsi rumah tangga adalah ...

- A. motivasi, kepribadian, kebudayaan
- B. kebudayaan, lingkungan, dan motivasi
- C. lingkungan, kepribadian, dan sikap
- D. motivasi, kepribadian, dan sikap
- E. kepribadian, lingkungan, dan kebudayaan

EBTANAS-SMA-93-06

Di dalam suatu pasar terdapat banyak penjual dan pembeli, barang-barang yang diperdagangkan homogen sehingga dapat saling mengganti, bentuk organisasinya adalah ...

- A. pasar monopsi
- B. pasar monopoli
- C. pasar persaingan monopolistik
- D. pasar persaingan sempurna
- E. pasar oligopoli

EBTANAS-SMA-93-07

Di bawah ini merupakan faktor penghambat pembangunan dan motivasi pembangunan:

1. pertumbuhan penduduk
2. keterampilan penduduk yang rendah
3. kemajuan di bidang teknologi
4. pendapatan rendah
5. kebiasaan dan adat istiadat

Yang termasuk penghambatan pembangunan adalah ...

- A. 1, 3
- B. 2, 4
- C. 2, 5
- D. 3, 4
- E. 1, 2

EBTANAS-SMA-93-08

Penghasilan Kena Pajak (PKP)	Tarif
sampai dengan Rp 10.000.000,00	15%
di atas Rp 10.000.000,00 sampai dengan Rp 50.000.000,00	25%
di atas Rp 50.000.000,00	35%

Apabila Harry mempunyai penghasilan kena pajak Rp 90.000.000,00 maka pajak penghasilan Harry terhutang adalah ...

- A. Rp 13.500.000,00
- B. Rp 22.500.000,00
- C. Rp 22.500.000,00
- D. Rp 26.000.000,00
- E. Rp 31.500.000,00

EBTANAS-SMA-93-09

Berikut ini merupakan landasan dan asas pembangunan nasional:

1. Pancasila
2. demokrasi
3. UUD 1945
4. keadaan hukum
5. percaya pada diri sendiri

Yang termasuk asas pembangunan ...

- A. no, 1, 2, 3
- B. no. 3, 4, 5
- C. no. 2, 3, 4
- D. no. 1, 3, 5
- E. no. 2, 4, 5

EBTANAS-SMA-93-10

Berikut ini adalah kegiatan pokok KUD dalam perekonomian, *kecuali* ...

- A. menyediakan agunan kredit anggota di bank
- B. menggiatkan anggota untuk menyimpan secara teratur
- C. memberikan pinjaman kepada anggota untuk memajukan usahanya
- D. menyalurkan barang kebutuhan anggota
- E. menambah pengetahuan anggota tentang koperasi

EBTANAS-SMA-93-11

Hal-hal berikut menyebabkan keanggotaan seseorang, dalam koperasi sekolah berakhir, *kecuali* ...

- A. meninggal dunia
- B. pindah ke sekolah lain
- C. berhenti sekolah karena tamat
- D. mengundurkan diri
- E. tidak naik kelas

EBTANAS-SMA-93-12

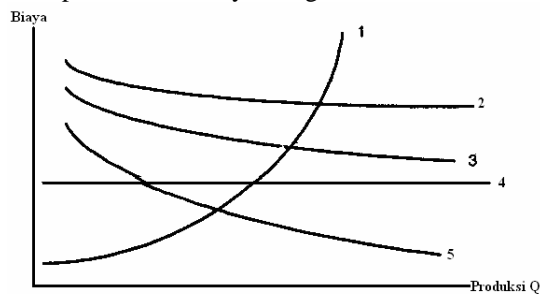
Nilai suatu barang ditentukan oleh biaya pembuatannya sekarang, bukan biaya yang sudah lalu, adalah teori nilai ...

- A. biaya produksi
- B. biaya reproduksi
- C. kerja
- D. pasar
- E. batas

EBTANAS-SMA-93-13

Kurva Biaya Produksi

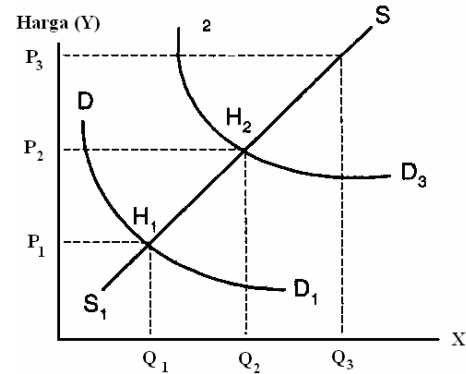
Dari kurva biaya produksi tersebut di bawah, yang merupakan kurva biaya marginal adalah ...



- A. biaya produksi
- B. biaya reproduksi
- C. kerja
- D. pasar
- E. batas

EBTANAS-SMA-93-14

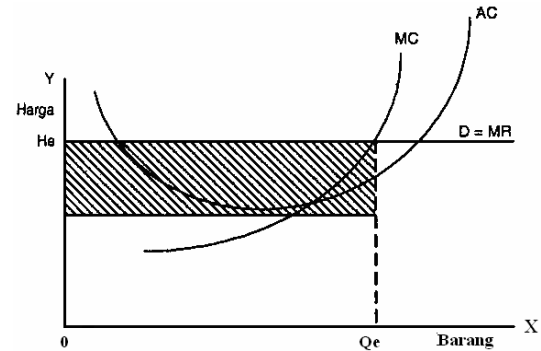
Kurva ini terjadi karena perubahan permintaan dan penawaran. Titik keseimbangan yang baru bergeser dari ...



- A. $P_1 \rightarrow P_2$
- B. $P_2 \rightarrow H_2$
- C. $H_1 \rightarrow H_2$
- D. $P_1 \rightarrow H_1$
- E. $Q_1 \rightarrow Q_2$

EBTANAS-SMA-93-15

Perhatikan kurva di bawah.



Kurva permintaan perusahaan (t) sama dengan kurva penerimaan marginal (MR)

Hal ini dapat terjadi pada pasar

- A. persaingan sempurna
- B. persaingan monopolistik
- C. monopoli sempurna
- D. persaingan oligopoi
- E. persaingan tidak sempurna

EBTANAS-SMA-93-16

Berikut ini adalah ciri-ciri pasar:

1. permintaan berasal dari produsen
2. permintaan dari sektor rumah tangga konsumsi
3. permintaan perbandingan terbalik dengan harga
4. penawaran datang dari pemilik faktor produksi
5. penawaran datang dari sektor produksi

Yang termasuk ciri pasar barang konsumsi adalah ...

- A. no. 1 dan 2
- B. no. 2 dan 4
- C. no. 3 dan 4
- D. no. 2 dan 5
- E. no. 1 dan 5

EBTANAS-SMA-93-17

Bunga modal adalah balas jasa atas pengorbanan karena seseorang memisahkan sebagian penghasilan untuk pembentukan modal. Hal tersebut terdapat di dalam teori ...

- A. agio
- B. time preference
- C. abstinence
- D. produktivitas
- E. liquidity preference

EBTANAS-SMA-93-18

Penetapan lokasi perusahaan berdasarkan pertimbangan tersedianya bahan dasar, prasarana angkutan, dan lokasi pasar, adalah faktor ...

- A. ekonomi
- B. sejarah
- C. alam
- D. keamanan
- E. pajak

EBTANAS-SMA-93-19

Fungsi manajemen dan fungsi operasional badan usaha:

- 1. perencanaan
 - 2. administrasi
 - 3. pengorganisasian
 - 4. personalia
 - 5. pemasaran
- A. 1 dan 2
 - B. 1 dan 3
 - C. 2 dan 3
 - D. 3 dan 4
 - E. 4 dan 5

EBTANAS-SMA-93-20

Pendapatan yang diterima dan siap dibelanjakan oleh masyarakat disebut ...

- A. personal income
- B. disposable income
- C. national income
- D. net national product
- E. gross national product

EBTANAS-SMA-93-21

GNP dikurangi dengan nilai penyusutan dan penggantian modal adalah ...

- A. produksi domestik netto
- B. pendapatan bebas
- C. pendapatan nasional netto
- D. produksi nasional netto
- E. pendapatan rata-rata

EBTANAS-SMA-93-22

Keberhasilan pembangunan ekonomi turut mempengaruhi kesempatan kerja dan pendapatan nasional sebab ...

- A. pembangunan ekonomi bertujuan untuk menciptakan lapangan kerja dan menaikkan pendapatan nasional
- B. keberhasilan pembangunan diukur dari naiknya kesempatan kerja dan bertambahnya pendapatan nasional
- C. pemerataan kesempatan kerja dan penambahan pendapatan nasional sangat ditentukan dalam pembangunan ekonomi
- D. meningkatkan kesempatan kerja dan bertambahnya pendapatan nasional, bila terjadi investasi dalam pembangunan
- E. meningkatnya kegiatan pembangunan berarti meningkatnya kegiatan ekonomi yang menciptakan kesempatan kerja

EBTANAS-SMA-93-23

Usaha untuk meningkat mutu tenaga kerja dilakukan dengan ...

- A. penambahan jam kerja dan penambahan alat produksi
- B. penambahan upah dan penambahan jam kerja
- C. perbaikan jaminan sosial dan penggantian alat produksi
- D. pengawasan pelaksanaan kerja dan penambahan jam kerja
- E. penyelenggaraan latihan kerja dan pemeliharaan kesehatan karyawan

EBTANAS-SMA-93-24

Nilai uang sama dengan nilai bahan uang, jika biaya produksi logam mulia naik, maka nilai uang pun akan naik, menurut ...

- A. teori matilisme
- B. teori konvensi
- C. teori kuantitas
- D. teori pendapatan
- E. teori nominalisme

EBTANAS-SMA-93-25

Diketahui jumlah uang 20 milyar rupiah laju peredaran uang 30, volume semua barang dan jasa yang dijual 50 unit, maka tingkat harga umum (P) menurut teori Irving Fisher adalah ...

- A. 18 milyar rupiah
- B. 16 milyar rupiah
- C. 14 milyar rupiah
- D. 12 milyar rupiah
- E. 10 milyar rupiah

EBTANAS-SMA-93-26

Menurunkan nilai perbandingan uang sendiri secara resmi terhadap uang luar negeri disebut ...

- A. deflasi
- B. revaluasi
- C. devaluasi
- D. depresiasi
- E. inflasi

EBTANAS-SMA-93-27

Bapak Suryo mendapat KUK dari BRI sebesar Rp 10.000.000,00 dipergunakan sebagai modal usaha pembelian peralatan dan pembelian bahan baku rotan. Kemudian pada penjualan pertama kursi rotan ia mendapat hasil penjualan sebesar Rp 12,000.000,00. Dengan demikian, kredit yang diterima Bapak Suryo berfungsi sebagai ...

- A. meningkatkan produktivitas modal uang
- B. memperbesar tabungan perusahaan
- C. meningkatkan peredaran uang
- D. metvimbulkatvkegaitahatvbetusaha

EBTANAS-SMA-93-28

Untuk memperoleh kredit, jaminan merupakan yang diperhitungkan dalam menilai kelayakan kredit seseorang. Syarat tersebut dalam menentuka kredibilitas debitur disebut ...

- A. character
- B. capacity
- C. capita!
- D. collateral
- E. condition

EBTANAS-SMA-93-29

Fungsi utama bank sebagai lembaga keuangan adalah ...

- A. perantara kredit
- B. penghimpun dana masyarakat
- C. melancarkan transaksi perdagangan
- D. melancarkan pembayaran uang
- E. pencipta uang giral

EBTANAS-SMA-93-30

Bank yang menciptakan uang melalui simpanan masyarakat yang dikumpulkan giro disebut ...

- A. bank sentral
- B. bank umum
- C. bank tabungan
- D. bank pembangunan
- E. bankperkreditanrakys|

EBTANAS-SMA-93-31

Sebagian pengeluaran anggaran belanja meliputi:

1. belanja barang,
 2. cicilan utang,
 3. pembelian kendaraan dinas,
 4. bantuan proyek, dan
 5. subsidi daerah otonom.
- A. 1, 2, 3
 - B. 1, 3, 4
 - C. 2, 3, 4
 - D. 1, 2, 5
 - E. 3, 4, 5

EBTANAS-SMA-93-32

Hasil penerimaan pajak yang dimanfaatkan untuk mengisi kas negara guna membiayai pengeluaran negara termasuk fungsi ...

- A. stabilisasi
- B. alokasi
- C. budgeter
- D. reguler
- E. distribusi

EBTANAS-SMA-93-33

Tabel pajak

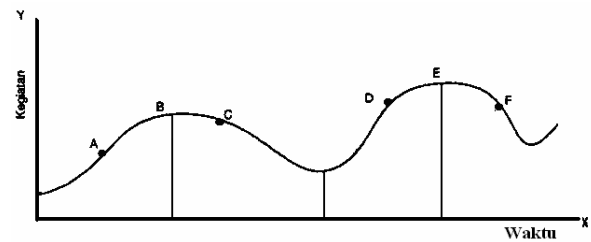
Pendapatan kena pajak (dalam jutaan)	Persentase Pajak				Pajak V
	I	II	III	IV	
- Rp 20.000,00	4%	4%	4%	4%	Rp 5.000,00
- Rp 30.000,00	5%	4,8%	4%	3,2%	Rp 5.000,00
- Rp 40.000,00	6%	5,4%	4%	2,5%	Rp 5.000,00
- Rp 50.000,00	7%	5,8%	4%	2,1%	Rp 5.000,00

Sistem pajak proporsional, yaitu lajur ...

- A. I
- B. II
- C. III
- D. IV
- E. V

EBTANAS-SMA-93-34

Perhatikan gambar gelombang konjungtur di bawah; ini!



Gelombang B C. dan E F disebut ...

- A. recovery
- B. prosperity
- C. depresi
- D. ekspansi
- E. resesi

EBTANAS-SMA-93-36

Perhatikan hal-hal berikut!

- a. tukar menukar barang jasa
- b. mempercepat pertumbuhan ekonomi
- c. hasil produksi yang berbeda
- d. perbedaan sumber alam

Yang merupakan sebab timbulnya perdagangan internasional ialah ...

- A. 1 dan 2
- B. 1 dan 3
- C. 2 dan 4
- D. 2 dan 3
- E. 3 dan 4

EBTANAS-SMA-93-36

Politik menjual barang dengan harga lebih murah di luar negeri daripada di dalam negeri termasuk kebijaksanaan ...

- A. proteksi
- B. dumping
- C. penetapan tarif
- D. diskriminasi harga
- E. kuota

EBTANAS-SMA-93-37

Di bawah ini adalah alasan-alasan yang membela dan menentang pembatasan nasional.

- a. Pembatasan impor melindungi industri dalam negara
- b. Pembatasan impor dapat mengurangi spesialisasi.
- c. Pembatasan impor meningkatkan permintaan produksi dalam negeri.
- d. Pembatasan impor menyebabkan terbatasnya pilihan barang.

Yang merupakan sebab timbulnya perdagangan internasional ialah ...

- A. 1, 3
- B. 1, 2
- C. 3, 4
- D. 2, 4
- E. 2, 3

EBTANAS-SMA-93-38

Seorang turis Amerika datang ke Indonesia dengan menukar uang di BDN US \$ 8,000.00 pada saat tercantum:

- a. kurs beli US, \$ 1 = Rp 2.050,00
- b. kurs jual US, \$ 1 = Rp 2.070,00

Uang rupiah yang diterima oleh turis Amerika itu adalah ...

- A. Rp 16.400.000,00
- B. Rp 16.480.000,00
- C. Rp 16.560.000,00
- D. Rp 17.800.000,00
- E. Rp 18.900.000,00

EBTANAS-SMA-93-39

Sistem kurs yang berusaha mengembalikan kurs valuta asing pada dasar emas adalah sistem ...

- A. kurs stabilitas
- B. kurs tetap
- C. kursdinamis
- D. kurs bebas
- E. kurs mengambang

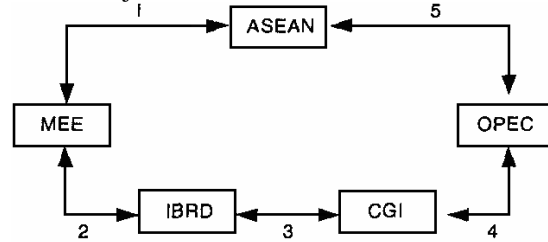
EBTANAS-SMA-93-40

Cara pembayaran internasional dengan mengeluarkan surat perintah kepada bank untuk membayar - sejumlah uang kepada seseorang, disebut sistem pembayaran ...

- A. full bodied money
- B. private compensation
- C. letter of credit
- D. bill of exchange
- E. transfer telegrafis

EBTANAS-SMA-93-41

Skema kerja sama internasional.



Berdasarkan skema di atas kerja sama antaregional adalah ...

- A. 1
- B. 2
- C. 3
- D. 4
- E. 5

EBTANAS-SMA-93-42

Di bawah ini adalah contoh kerja sama ekonomi internasional.

- 1. ASEAN
- 2. ADB
- 3. OPEC
- 4. GATT
- 5. APO

Yang termasuk kerja sama internasional adalah ...

- A. 1, 2
- B. 2, 3
- C. 3, 5
- D. 3, 4
- E. 4, 5

EBTANAS-SMA-93-43

Pertumbuhan ekonomi suatu negara dibedakan menjadi:

- A. rumah tangga tertutup
- B. rumah tangga kota
- C. rumah tangga bangsa,
- D. rumah tangga dunia.

Teori tersebut dikemukakan oleh ...

- A. Werner Sombart
- B. Frederick List
- C. David Sollow
- D. Robert Sollow
- E. Karlbucher

EBTANAS-SMA-93-44

Ciri-ciri tahap pertumbuhan ekonomi adalah:

- 1. investasi meningkat dari 5% menjadi 10% atau lebih
- 2. dobrakan terhadap penghalang pertumbuhan ekonomi
- 3. potensi yang mendorong kemajuan ekonomi diperluas dan
- 4. industri berkembang dengan cepat.

Keadaan ekonomi pada tahap pertumbuhan di atas, menurut teori W.W. Rostow berada pada tahap ...

- A. masyarakat tradisional
- B. prakondisi untuk periode *take off*
- C. periode *take off*
- D. usaha ke arah kedewasaan
- E. periode konsumsi melimpah

EBTANAS-SMA-93-45

Pertumbuhan ekonomi berarti ...

- usaha menaikkan pendapatan nasional yang meningkatkan kesejahteraan rakyat
- proses perubahan yang menciptakan perbaikan di bidang ekonomi
- usaha untuk meningkatkan pendapatan suatu negara
- mengubah kekuatan-kekuatan ekonomi potensial menjadi ekonomi riil
- kenaikan produk nasional per kapita dari tahun ke tahun dalam jangka panjang

EBTANAS-SMA-93-46

Kriteria utama yang dijadikan tolak ukur keberhasilan pembangunan ekonomi ...

- naikkan kesempatan kerja dalam masyarakat
- meningkatnya investasi dan meningkatkan produksi
- meningkatnya pendapatan nasional suatu negara
- naiknya pendapatan rata-rata dengan distribusi yang merata
- terciptanya neraca pembayaran yang seimbang

EBTANAS-SMA-93-47

- kreasi perbrangan dan swasta ditingkatkan
- perencanaan dan pelaksanaan dilakukan oleh pemerintah
- inisiatif perorangan dan swasta ditiadakan
- pemerintah dan masyarakat bekerja sama dalam pembangunan

Yang merupakan ciri pola pembangunan longgar adalah ...

- 1 dan 4
- 2 dan 3
- 1 dan 3
- 1 dan 2
- 3 dan 4

EBTANAS-SMA-93-48

Pertumbuhan penduduk yang tinggi akan menimbulkan masalah pembangunan karena ...

- rasio antara penduduk usia lanjut sama dengan rasio angkatan kerja
- akan menumbuhkan angkatan kerja untuk tenaga pembangunan
- semakin banyak penduduk usia muda, semakin besar pula jumlah angkatan kerja
- dibutuhkan pengumpulan dana untuk pemerintahan yatim piatu
- dibutuhkan sejumlah dana yang besar untuk pendidikan

EBTANAS-SMA-93-49

Menurut teori klasik sumber kemakmuran berasal dari ...

- kekayaan alam
- kemampuan kerja manusia
- jumlah faktor produksi
- jumlah penduduk
- tingkat teknologi

EBTANAS-SMA-93-50

Di bawah ini adalah ciri-ciri sistem ekonomi:

- alat dan sumber daya ekonomi milik negara
- adanya persaingan antarperusahaan
- kebijaksanaan ekonomi diatur oleh pemerintah
- jenis pekerjaan dan pembagian kerja diatur oleh pemerintah
- adanya kebebasan individu untuk mencari keuntungan
- semua alat dan sumber dikuasai perorangan

Ciri sistem ekonomi liberal adalah nomor ...

- 1, 2, dan 3
- 2, 3, dan 4
- 2, 5, dan 6
- 3, 4, dan 5
- 1, 4, dan 5

EBTANAS-SMA-93-51

Di bawah ini beberapa ciri demokrasi ekonomi:

- potensi dan inisiatif masyarakat dapat dikembangkan sejauh tidak merugikan masyarakat
- hak milik pribadi diakui dan pemanfaatannya tidak boleh bertentangan dengan kepentingan umum
- bumi, air, dan kekayaan alam dikuasai oleh negara dan digunakan untuk kemakmuran masyarakat
- pemusatan kekuatan ekonomi pada suatu kelompok masyarakat sehingga terbentuk monopoli
- negara dan aparturnya bersifat dominan sehingga mendesak sektor di luar negara

Yang termasuk ciri-ciri positif demokrasi ekonomi adalah ...

- 1, 2, 3
- 1, 3, 5
- 2, 3, 4
- 2, 4, 5
- 3, 4, 5

EBTANAS-SMA-93-52

Dari kegiatan-kegiatan di bawah ini yang termasuk dalam fungsi pengorganisasian adalah ...

- pembagian tugas, wewenang dan tanggung jawab orang bekerja dalam perusahaan .
- penetapan hasil yang hendak dicapai pada masa yang akan datang
- mengambil keputusan tentang cara-cara bekerja yang akan dilaksanakan
- kegiatan yang dilakukan untuk mencapai sasaran sesuai dengan kebijakan
- memperkirakan hal-hal yang mungkin terjadi di masa yang akan datang

EBTANAS-SMA-93-53

Suatu pelaksanaan dalam pengolahan badan usaha adalah ...

- A. menetapkan jalur atau tata cara untuk memudahkan pengawasan
- B. motivasi para pekerja ke arah pencapaian tujuan yang telah ditetapkan
- C. mengendalikan dan mengadakan penelitian terhadap pelaksanaan
- D. mengawasi dan mengadakan koreksi-koreksi terhadap penyimpangan
- E. menemukan kesalahan atau penyimpangan dari perencanaan yang ditetapkan

EBTANAS-SMA-93-54

I	II	III	IV	V
- kondisi	- sarana	- kebutuhan	- situasi	- dana
- situasi	- prasarana	- sarana	- dana	- tenaga kerja

Dari matrik di atas, yang termasuk faktor intern dalam pengelolaan badan usaha adalah lajur

- A. kekayaan alam
- B. kemampuan kerja manusia
- C. jumlah faktor produksi
- D. jumlah penduduk
- E. tingkat teknologi

EBTANAS-SMA-93-55

Pasal pada UUD 1945 yang menunjukkan adanya sektor usaha negara, swasta dan koperasi ...

- A. pasal 27
- B. pasal 32
- C. pasal 33
- D. pasal 34
- E. pasal 37

EBTANAS-SMA-93-56

Struktur organisasi koperasi

1. Anggota
2. Rapat Anggota
3. Badan Pengawas/ Pemeriksa
4. Dewan Penasihat
5. Pengurus
6. Manajer
7. Bagian Keuangan
8. Bagian Tata Usaha
9. Bagian Administrasi dan Organisasi

Yang termasuk alat perlengkapan organisasi koperasi dalam bagan di atas adalah ...

- A. 1, 2, 3
- B. 2, 3, 5
- C. 3, 4, 5
- D. 4, 5, 6
- E. 2, 5, 6

EBTANAS-SMA-93-57

Yang merupakan sumber modal sendiri pada koperasi adalah ...

- A. simpanan pokok, pinjaman bank, dan simpanan wajib
- B. pinjaman bank, -bantuan pemerintah, pinjaman BUKOPIN
- C. simpanan pokok, simpanan wajib, dan dana cadangan
- D. simpanan wajib, pinjaman BUKOPIN, dan simpanan pokok
- E. bantuan pemerintah, simpanan pokok, dan pinjaman bank

EBTANAS-SMA-93-58

Yang bertanggung jawab dalam pengendalian modal koperasi adalah ...

- A. manajer
- B. badan pemeriksa
- C. rapat anggota
- D. bendahara koperasi
- E. pengurus koperasi

EBTANAS-SMA-93-59

Langkah awal dalam kegiatan akuntansi koperasi adalah ...

- A. menyusun neraca
- B. mencatat modal
- C. membuat jurnal
- D. membuat buku besar
- E. mencatat hutang

EBTANAS-SMA-93-60

Laporan keuangan yang wajib disampaikan oleh pengurus koperasi dalam RAT adalah ...

- A. piutang, data simpanan pokok, data simpanan wajib
- B. neraca, laporan keuangan, data piutang
- C. laporan simpanan pokok, laporan perubahan modal
- D. neraca, laporan rugi/laba atau laporan perubahan
- E. laporan pembagian SHU, neraca dan laporan rugi/laba