

# Evaluasi Belajar Tahap Akhir Nasional

## Tahun 1994

### Ekonomi

#### EBTANAS-SMA-94-01

Kebutuhan primer, sekunder, dan mewah adalah pembagian kebutuhan menurut ...

- A. intensitas
- B. waktu
- C. sifat
- D. wujud
- E. subyek

#### EBTANAS-SMA-94-02

Memperluas perusahaan dengan maksud memperbesar laba didorong oleh motif ...

- A. memperoleh penghargaan
- B. menguasai sektor ekonomi
- C. memperoleh penghormatan
- D. mempertahankan hidup
- E. ingin berbuat sosial

#### EBTANAS-SMA-94-03

Faktor produksi terdiri dari:

- 1. modal
- 2. alam
- 3. pengusaha
- 4. tenaga kerja

yang termasuk faktor produksi turunan adalah ...

- A. 1 dan 2
- B. 1 dan 3
- C. 2 dan 3
- D. 2 dan 4
- E. 3 dan 4

#### EBTANAS-SMA-94-04

Kegiatan usaha :

- 1. nelayan menangkap ikan di sungai
- 2. petani menanam padi di sawah
- 3. penambangan minyak lepas pantai
- 4. membuka usaha perkebunan kopi

Dari kegiatan usaha di atas yang tergolong dalam bidang usaha ekstraktif adalah ...

- A. 1 dan 2
- B. 2 dan 4
- C. 1 dan 3
- D. 3 dan 4
- E. 1 dan 4

#### EBTANAS-SMA-94-05

Permintaan efektif adalah ...

- A. permintaan dari pembeli atau konsumen yang benar-benar dapat dilaksanakan
- B. permintaan yang banyak sekali dipengaruhi oleh perubahan harga
- C. permintaan barang dan jasa oleh konsumen pada tingkat harga dan periode waktu tertentu
- D. permintaan dari pembeli atau konsumen yang tidak disertai dengan kemampuan membayar
- E. permintaan yang tidak dipengaruhi perubahan harga

#### EBTANAS-SMA-94-06

Perhatikan matrik di bawah ini!

A	B	C
1. Pertambahan penduduk	1. Kekurangan keahlian	1. Permodalan
2. Adat istiadat	2. Kemajuan ilmu	2. Undang-undang
3. Keadaan alam	3. Situasi ekonomi	3. Teknologi

Yang merupakan motivasi pembangunan ekonomi adalah ...

- A. A1, B1, C1
- B. A2, B2, C1
- C. A1, B2, C3
- D. A3, B3, C3
- E. A3, B1, C2

#### EBTANAS-SMA-94-07

Tarif pajak penghasilan sebagai berikut.

- 1. pendapatan sampai dengan Rp 10.000.000,00 15%
- 2. pendapatan di atas Rp 10.000.000,00 sampai dengan Rp 50.000.000,00 25%
- 3. pendapatan di atas Rp 50.000.000,00 35%

Apabila penghasilan kena pajak Tuan Budi dalam tahun 1992 sebesar Rp 88.000.000,00 maka pajak yang terutang dalam tahun tersebut sebesar ...

- A. Rp 13.200.000,00
- B. Rp 22.000.000,00
- C. Rp 23.800.000,00
- D. Rp 24.800.000,00
- E. Rp 30.800.000,00

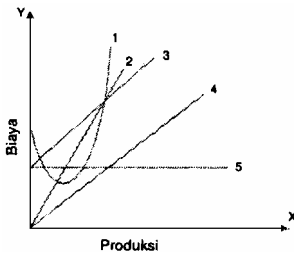
**EBTANAS-SMA-94-08**

Landasan dan asas pembangunan

A	B	C
1. Manfaat 2. UUD 1945	1. Pancasila 2. Adil dan makmur	1. GBHN 2. Percaya pada diri sendiri

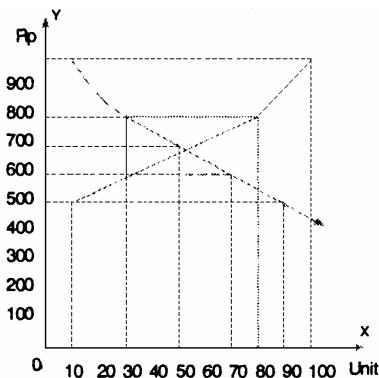
yang termasuk asas pembangunan nasional adalah ...

- A. A1, B1, C1
- B. A1, B2, C2
- C. A2, B1, C1
- D. A2, B2, C1
- E. A2, B2, C2

**EBTANAS-SMA-94-09**

Perhatikan kurva biaya produksi di samping ini. Kurva biaya tetap adalah ...

- A. 1
- B. 2
- C. 3
- D. 4
- E. 5

**EBTANAS-SMA-94-10**

Perhatikan grafik harga keseimbangan di samping ini (Rp 700,00) pada tingkat harga Rp 600,00, jumlah barang yang diminta sebanyak ...

- A. 70 unit
- B. 60 unit
- C. 50 unit
- D. 30 unit
- E. 10 unit

**EBTANAS-SMA-94-11**

Di bawah ini merupakan ciri- ciri pasar persaingan sempurna, *kecuali* ...

- A. jumlah pembeli dan penjual banyak di pasar
- B. perjanjian bebas dilakukan oleh pembeli dan penjual
- C. barang yang diperjual belikan bersifat homogen
- D. pemerintah tidak ikut campur dalam penentuan harga
- E. harga ditentukan dan dikuasai seorang penjual

**EBTANAS-SMA-94-12**

Upah buruh minimal harus sama dengan biaya hidup keluarga atau standar hidup. Teori ini dikemukakan oleh ...

- A. James Mill dan Nassau William Senior
- B. Adam Smith dan David Ricardo
- C. Karl Marx dan Carey
- D. Von Bohm Bawerk dan Wichshell
- E. Von Thunen dan David Ricardo

**EBTANAS-SMA-94-13**

Perhatikan tabel di bawah ini!

A	B	C
1. Makna usahanya mencari keuntungan	1. Makna usahanya melayani kepentingan umum	1. Makna usahanya adalah pengabdian
2. karyawan berstatus karyawan swasta	2. Pegawainya adalah pegawai perusahaan negara	2. Pegawainya adalah pegawai negara

Dari matrix di atas yang merupakan ciri pokok dari perum adalah ...

- A. A1, B1
- B. B1, C1
- C. B1, B2
- D. A1, B2
- E. C1, C2

**EBTANAS-SMA-94-14**

Jumlah barang dan jasa yang dihasilkan masyarakat dalam satu tahun dan dinilai dengan uang disebut ...

- A. pendapatan nasional
- B. pendapatan perseorangan
- C. pendapatan nasional netto
- D. produk nasional bruto
- E. pendapatan nasional bruto

**EBTANAS-SMA-94-15**

Tingkat pendapatan nasional tergantung dari 3 komponen, yaitu ...

- A. konsumsi, produksi, distribusi
- B. konsumsi, tabungan, investasi
- C. konsumsi, produksi, tabungan
- D. investasi, tabungan, konsumsi
- E. permintaan, penawaran, investasi

**EBTANAS-SMA-94-16**

Pengangguran yang disebabkan oleh rasio modal atau tenaga kerja dalam proses produksi cenderung bertambah disebut pengangguran ...

- A. teknologi
- B. siklis
- C. musiman
- D. tidak kentara
- E. terbuka

**EBTANAS-SMA-94-17**

Fungsi uang antara lain:

1. alat penabung
2. alat tukar
3. alat pembentuk modal
4. alat satuan hitung

yang termasuk fungsi asli uang adalah ...

- A. 1 dan 2
- B. 1 dan 3
- C. 1 dan 4
- D. 2 dan 4
- E. 3 dan 4

**EBTANAS-SMA-94-18**

Pada tanggal 12 September 1986 pemerintah mengambil kebijaksanaan menurunkan nilai rupiah terhadap mata uang asing. kebijakan ini disebut ...

- A. devaluasi
- B. deflasi
- C. inflasi
- D. revaluasi
- E. depresiasi

**EBTANAS-SMA-94-19**

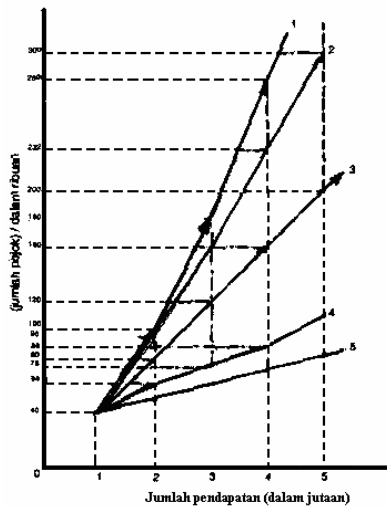
Pembayaran oleh rakyat kepada pemerintah yang dapat dipaksakan tanpa balas jasa secara langsung, disebut ...

- A. bea cukai
- B. retribusi
- C. penerimaan administrasi
- D. iuran
- E. pajak

**EBTANAS-SMA-94-20**

Berdasarkan grafik di samping ini yang merupakan sistem pemungutan pajak proposional adalah ...

- A. 1
- B. 2
- C. 3
- D. 4
- E. 5



**EBTANAS-SMA-94-21**

Berikut ini adalah sebab terjadinya dan tujuan perdagangan internasional ...

- A. kekayaan alam yang dimiliki negara berbeda
- B. meningkatkan kesejahteraan masyarakat
- C. terjadinya perbadean sosial budaya masyarakat
- D. menambah penerimaan negara dari ekspor
- E. adanya peningkatan sarana komunikasi dan transportasi

**EBTANAS-SMA-94-22**

Penetapan harga jual yang berbeda terhadap barang yang sama, disebut ...

- A. proteksionisme
- B. penetapan tarif
- C. diskriminasi harga
- D. penetapan bea impor
- E. penetapan bea ekspor

**EBTANAS-SMA-94-23**

Kuota merupakan salah satu kebijaksanaan perdagangan internasional yang dilakukan dengan cara ...

- A. larangan impor barang-barang tertentu
- B. mengenakan bea atas barang-barang tertentu
- C. mengatur perdagangan internasional melalui pertukaran mata uang
- D. membatasi barang-barang yang masuk dari luar negeri
- E. menjual barang di luar negeri lebih murah daripada di dalam negeri

**EBTANAS-SMA-94-24**

Besarnya kurs valuta asing ditentukan oleh banyaknya permintaan dan penawaran disebut sistem ...

- A. stabilisasi
- B. tetap
- C. standar emas
- D. dinamis
- E. bebas

**EBTANAS-SMA-94-25**

Apabila seorang importir melakukan pembayaran barang menggunakan cek yang diteruskan melalui telegram kepada relasinya di luar negeri, cara pembayaran ini disebut ...

- A. bills of exchange
- B. letter of credit
- C. clearing
- D. cable order
- E. private compensation

**EBTANAS-SMA-94-26**

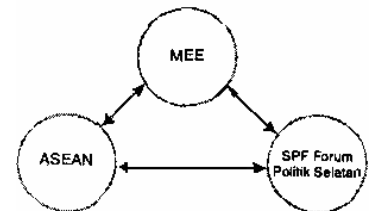
Pembayaran internasional dapat dilakukan dengan cara mengirimkan wesel, yaitu ...

- A. mengirimkan mata uang emas kepada kreditur
- B. menyerahkan surat bukti tagihan pada kreditur
- C. memberikan perintah kepada bank untuk membayar pada kreditur
- D. mengirimkan mata uang internasional kepada kreditur
- E. mengirimkan uang tunai kepada kreditur melalui bank

**EBTANAS-SMA-94-27**

Bagan kerja sama ekonomi internasional di samping ini merupakan kerja sama ...

- A. antar regional
- B. multilateral
- C. internasional
- D. bilateral
- E. regional



**EBTANAS-SMA-94-28**

Organisasi internasional yang bertujuan menghilangkan pembatasan perdagangan di antara negara anggota-anggotanya adalah ...

- A. ECOSOC
- B. GATT
- C. EEC
- D. SPF
- E. APO

**EBTANAS-SMA-94-29**

Kegiatan pokok ITO adalah ...

- A. untuk memajukan perdagangan internasional
- B. meminjamkan dana dan memberi bantuan kepada negara-negara di Asia
- C. untuk meningkatkan produktivitas di negara-negara Asia
- D. memberikan kredit jangka panjang kepada negara anggota
- E. memperbaiki syarat-syarat kerja buruh di semua negara

**EBTANAS-SMA-94-30**

Pertumbuhan ekonomi yang didasarkan pada teknik berproduksi dikemukakan oleh ...

- A. Karl Butcher
- B. Werner Sombart
- C. Harrod Domar
- D. Friedrich List
- E. W.W. Rostow

**EBTANAS-SMA-94-31**

Pertumbuhan ekonomi yang ditandai oleh adanya perubahan yang drastis dalam masyarakat, terciptanya kemajuan yang pesat sehingga muncul adanya penanaman modal yang makin meningkat, menurut Rostow berada pada tahap ...

- A. tradisional
- B. transisi
- C. highmas consumption
- D. maturity
- E. take off

**EBTANAS-SMA-94-32**

Perhatikan matrix di bawah ini!

A	B	C
1. Alam	1. Adat	1. Pendapatan nasional
2. Modal	2. Sikap	2. Kesempatan kerja
3. Teknologi	3. Budaya	3. Distribusi pendapatan

Dari matrix tersebut di atas yang merupakan kriteria perkembangan ekonomi adalah ...

- A. A1, A2, A3
- B. B1, B2, B3
- C. C1, C2, C3
- D. A1, B1, C1
- E. A2, B1, C2

**EBTANAS-SMA-94-33**

Mereka yang bergerak dalam bidang pertanian saja dapat digolongkan produktif karena mampu menghasilkan dan memperoleh hasil lebih, pendapat ini dikemukakan oleh mazhab ...

- A. sosialis
- B. klasik
- C. neo klasik
- D. fisiokrat
- E. historis

**EBTANAS-SMA-94-34**

Inti pokok ajaran kaum Merkantilisme adalah ...

- A. kerja merupakan alat untuk mencapai kemakmuran masyarakat
- B. kemakmuran negara ditentukan banyaknya emas yang dimiliki negara tersebut
- C. kesejahteraan masyarakat tercapai jika kemakmuran individu telah tercapai
- D. kesempatan kerja bertambah jika investasi dalam masyarakat meningkat
- E. manusia harus diberi kebebasan bertindak sesuai dengan kodratnya

**EBTANAS-SMA-94-35**

Perhatikan matrix dibawah ini!

A	B	C
1. perekonomian disusun sebagai usaha bersama berdasarkan asas kekeluargaan	1. cabang produksi penting yang menguasai hajat hidup orang banyak dikuasai oleh negara	1. sistem free fight liberalisme menumbuhkan eksploitasi terhadap manusia
2. negara beserta aparaturnya bersifat dominan	2. pemusatan kekuatan ekonomi pada satu kelompok dalam bentuk monopoli	2. fakir miskin dan anak terlantar dipelihara oleh negara

Dari matrix di atas yang merupakan ciri positif demokrasi ekonomi Indonesia adalah ...

- A. A1, B1, C1
- B. A2, B2, C2
- C. A1, B2, C1
- D. A1, B1, C2
- E. A2, B2, C1

**EBTANAS-SMA-94-36**

Kelompok dialog Utara-Selatan beranggotakan antara lain:

1. Amerika Serikat
2. Jerman
3. Philipina
4. Spanyol
5. Birma

Negara-negara yang termasuk kelompok utara adalah ...

- A. 1, 2, 3
- B. 1, 2, 4
- C. 1, 3, 5
- D. 2, 4, 5
- E. 3, 4, 5

**EBTANAS-SMA-94-37**

Fungsi-fungsi pengelolaan badan usaha meliputi:

1. adanya spesialisasi dalam suatu pekerjaan
2. adanya suatu kepastian tentang tujuan yang dicapai
3. memperbaiki kesalahan-kesalahan.
4. diperoleh tindakan yang tepat dan terkoordinasi dari berbagai unit
5. menetapkan waktu pelaksanaan.

Dari data di atas yang merupakan fungsi perencanaan adalah ...

- A. 1, 2, 3
- B. 1, 3, 5
- C. 2, 4, 5
- D. 3, 4, 5
- E. 4, 5, 1

**EBTANAS-SMA-94-38**

Dalam pengelolaan suatu badan usaha di pengaruhi faktor-faktor:

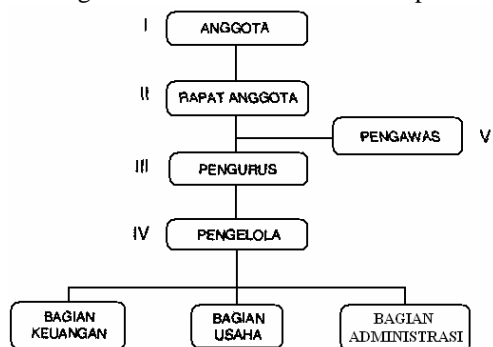
1. sarana
2. kondisi
3. situasi
4. dana
5. tenaga kerja
6. prasarana
7. peraturan pemerintah

Dari faktor di atas, yang termasuk faktor eksternal adalah ...

- A. 1, 3, 5
- B. 2, 4, 6
- C. 2, 3, 7
- D. 3,4,5
- E. 5,6,7

**EBTANAS-SMA-94-39**

Struktur Organisasi Serba Usaha/Multi Purpose



Dari bagan di atas yang termasuk perangkat organisasi ...

- A. I, II, III
- B. I, III, V
- C. II, III, IV
- D. II, III, V
- E. III, IV, V

**EBTANAS-SMA-94-40**

Berikut ini merupakan sumber-sumber modal koperasi

1. simpanan pokok
2. simpanan wajib
3. pinjaman anggota
4. cadangan SHU
5. pinjaman bank

Yang *bukan* sumber modal sendiri adalah ...

- A. 1, 2
- B. 1, 3
- C. 2, 3
- D. 2, 4
- E. 3, 5

**URAIAN**

**EBTANAS-SMA-94-41**

Jelaskan dua cara perluasan produksi, dan sebutkan dampaknya terhadap kesejahteraan masyarakat!

**EBTANAS-SMA-94-42**

Sebutkan empat cara yang dapat dilakukan dalam usaha meningkatkan kesempatan kerja di Indonesia!

**EBTANAS-SMA-94-43**

Sebutkan empat macam keburukan kredit!

**EBTANAS-SMA-94-44**

Jelaskan perbedaan pertumbuhan ekonomi dengan pembangunan ekonomi!

**EBTANAS-SMA-94-45**

Sebutkan empat cara pengendalian modal koperasi!