

Evaluasi Belajar Tahap Akhir Nasional Tahun 1995 EKONOMI

EBTANAS-SMA-95-01

Berikut ini contoh beberapa kebutuhan:

1. makan, minum
2. pendidikan, agama
3. pakaian, perumahan
4. rekreasi, televisi
5. olahraga, obat-obatan

Yang termasuk kebutuhan jasmani adalah ...

- A. 1, 2, 3
- B. 1, 3, 5
- C. 2, 3, 4
- D. 2, 4, 5
- E. 3, 4, 5

EBTANAS-SMA-95-02

Yang termasuk barang komplementer adalah ...

- A. telur dengan tempe
- B. cabe dengan saos
- C. beras dengan jagung
- D. sepatu dengan sandal
- E. benang dengan jarum

EBTANAS-SMA-95-03

Perusahaan-perusahaan besar selalu berusaha memperluas usahanya (membuka cabang di kota lain) untuk lebih memajukan usahanya. Motif yang mendorong perusahaan tersebut adalah ...

- A. ingin meningkatkan kemakmuran rakyat
- B. ingin memperoleh penghargaan dari masyarakat
- C. untuk berbuat sosial kepada masyarakat
- D. untuk memenuhi kebutuhan perusahaan
- E. hasrat memperoleh kekuasaan di sektor ekonomi

EBTANAS-SMA-95-04

Perluasan produksi pertanian dapat dilakukan, dengan cara:

1. penggunaan bibit unggul
2. menambah jumlah tenaga kerja
3. perbaikan mutu tanah
4. mencetak sawah baru
5. pemupukan yang baik/teratur

Yang termasuk perluasan produksi secara intensif adalah ...

- A. 1, 2 dan 3
- B. 1, 3 dan 4
- C. 2, 3 dan 4
- D. 2, 4 dan 5
- E. 3, 4 dan 5

EBTANAS-SMA-95-05

Faktor internal yang mempengaruhi tingkat konsumsi rumah tangga keluarga adalah ...

- A. perkembangan adat istiadat
- B. kemajuan teknologi dan kebudayaan
- C. kebudayaan yang semakin maju dan berkembang
- D. dorongan untuk mencapai hidup yang lebih baik
- E. perkembangan penduduk dan lingkungan

EBTANAS-SMA-95-06

Pendapatan kena pajak	Tarif Pajak
sampai dengan Rp 10.000.000,00	15%
di atas Rp 10.000.000,00 s.d Rp 50.000.000,00	25%
di atas Rp 50.000.000,00	35%

Jika Tuan Slamet mempunyai pendapatan kena pajak sebesar Rp 140.000.000,00 maka besar pajak terutang adalah ...

- A. Rp. 49.000.000,00
- B. Rp. 43.000.000,00
- C. Rp. 42.000.000,00
- D. Rp. 40.500.000,00
- E. Rp. 35.000.000,00

EBTANAS-SMA-95-07

Perhatikan matrik di bawah ini!

A	B
1. kekayaan alam	1. geografi dan geologi
2. demografi dan sosial budaya	2. rokhaniah dan mental
3. budaya bangsa	3. flora dan fauna

Yang termasuk modal dasar pembangunan nasional adalah ...

- A. A1, A2, B1
- B. A1, A3, B2
- C. A1, A3, B3
- D. A2, B1, B2
- E. A3, B2, B3

EBTANAS-SMA-95-08

Berikut ini merupakan kegiatan pokok KUD, *kecuali* ...

- A. memberikan penyuluhan teknik kegiatan usaha anggota
- B. menggiatkan anggota untuk menyimpan secara teratur
- C. memberikan pinjaman untuk memenuhi kebutuhan anggota
- D. menyalurkan barang kebutuhan dan sarana produksi
- E. melayani Kredit Candaq Kulak pada anggota

EBTANAS-SMA-95-09

Nilai suatu barang/jasa ditentukan oleh biaya yang dikeluarkan produsen untuk memproduksi barang/jasa tersebut. Teori ini dikemukakan oleh ...

- A. Carey
- B. Karl Marx
- C. Adam Smith
- D. David Ricardo
- E. Humme dan Locke

EBTANAS-SMA-95-10

Matrik biaya produksi

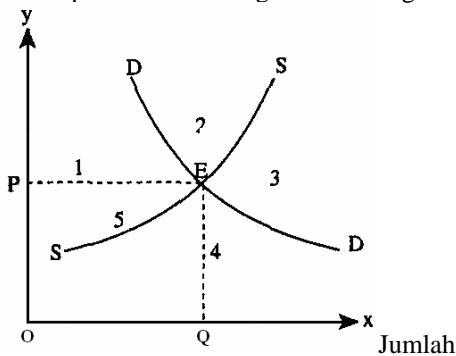
No	A	B	C
1.	biaya bahan baku	biaya pengangkutan	upah tenaga kerja
2.	pembelian mesin	biaya penyusutan gedung	premi asuransi perusahaan

Berdasarkan matrik di atas yang termasuk biaya tetap adalah

- A. A1, B1, C1
- B. A1, B2, C1
- C. A2, B2, C1
- D. A2, B1, C2
- E. A1, B2, C2

EBTANAS-SMA-95-11

Kurva pembentukan harga keseimbangan

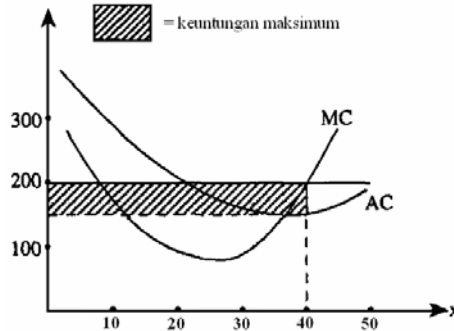


Dari kurva di atas, bidang premi produsen adalah ...

- A. 1
- B. 2
- C. 3
- D. 4
- E. 5

EBTANAS-SMA-95-12

MC = biaya marginal
 MR = penerimaan marginal
 AC = biaya per-satuan
 D = permintaan



Dari grafik di atas dengan memperhatikan pembentukan harga yang terjadi maka bentuk pasarnya adalah ...

- A. persaingan sempurna
- B. monopoli
- C. oligopoli
- D. duopoly
- E. monopsoni

EBTANAS-SMA-95-13

Tinggi rendahnya sewa tanah ditentukan oleh perbedaan kesuburan tanah, teori tersebut dinamakan teori sewa tanah ...

- A. modern
- B. integral
- C. pasar
- D. differensial
- E. marginal

EBTANAS-SMA-95-14

Pemberian upah yang didasarkan atas pemberian upah biasa ditambah dengan pemberian keuntungan sebagai pemegang saham adalah sistem upah ...

- A. copartnership
- B. indeks
- C. skala
- D. partisipasi
- E. satuan

EBTANAS-SMA-95-15

Produk nasional netto adalah ...

- A. pendapatan yang diterima masyarakat dalam suatu negara
- B. jumlah barang dan jasa yang dihasilkan dalam 1 tahun
- C. GNP dikurangi penyusutan dan penggantian modal
- D. GNP dikurangi pajak tidak langsung
- E. pendapatan yang diperoleh dari pemilik faktor produksi

EBTANAS-SMA-95-16

Diketahui: Jumlah uang beredar (M) Rp 1.500.000,00
 Tingkat harga (P) Rp 10.000,00
 Jumlah barang (T) 45.000 unit
 Menurut Irving Fisher, kecepatan uang beredar (V) adalah ...

A. 150
 B. 200
 C. 300
 D. 330
 E. 450

EBTANAS-SMA-95-17

Jumlah uang yang beredar di masyarakat terlampaui banyak, di banding jumlah barang yang dihasilkan sehingga mengakibatkan harga barang naik, gejala ini dinamakan ...

A. inflasi
 B. deflasi
 C. devaluasi
 D. revaluasi
 E. diversifikasi

EBTANAS-SMA-95-18

Berdasarkan penilaian dari bank, Andy memiliki kemampuan untuk mengembalikan pinjaman yang diajukan. Keadaan di atas merupakan syarat kredit ...

A. condition
 B. collateral
 C. capital
 D. character
 E. capacity

EBTANAS-SMA-95-19

RAPBN tahun 1989/1990 diketahui dalam milyar rupiah

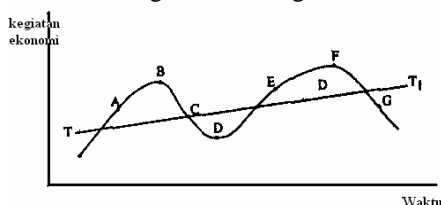
Penerimaan rutin	Rp 40.184,00
Penerimaan pembangunan	Rp 10.371,5
Pengeluaran rutin	Rp 30.557,8 dan
Pengeluaran pembangunan	Rp 193997,7

Berdasarkan data di atas maka posisi RAPBN

A. defisit Rp 30.557,8 milyar
 B. defisit Rp 10.371,5 milyar
 C. surplus Rp 29.812,5 milyar
 D. surplus Rp 9.626,2 milyar
 E. berimbang

EBTANAS-SMA-95-20

Grafik hubungan antara kegiatan ekonomi dan waktu.



Garis C-D menunjukkan masa ...

A. ekspansi
 B. recovery
 C. boom
 D. resesi
 E. depresi

EBTANAS-SMA-95-21

Neraca pembayaran Indonesia tahun 1992/1993 (dalam jutaan rupiah)

No	Komoditi	Ekspor	Impor
1	Migas	Rp 2.474,00	Rp 12.437,00
2	Non migas	Rp 10.078,00	Rp 8.175,00
	Saldo	Rp 8.060,00	
	Jumlah	Rp 20.612,00	Rp 20.612,00

Berdasarkan data di atas menunjukkan ...

- A. neraca perdagangan pasif
 B. neraca perdagangan aktif
 C. neraca pembayaran aktif
 D. neraca pembayaran pasif
 E. neraca perdagangan defisit

EBTANAS-SMA-95-22

Kebijakan pemerintah yang membatasi jumlah barang-barang elektronik dari luar negeri masuk ke Indonesia disebut ...

- A. proteksionisme
 B. larangan impor
 C. kuota impor
 D. tarif dan bea masuk
 E. deregulasi

EBTANAS-SMA-95-23

Akhmad bermaksud pergi ke luar negeri, untuk itu ia membutuhkan £ 50, \$ 80,- dan DM 60, di mana kurs valas hari itu sebagai berikut:

Valas	Beli (Rp)	Jual (Rp)
£ 1,-	3.025,-	3.040,-
\$ 1,-	2.160,-	2.185,-
DM 1,-	1.380,-	1.410,-

Berdasarkan kurs di atas, Akhmad harus mengeluarkan uang ...

- A. Rp 405.000,00
 B. Rp 406.850,00
 C. Rp 416.850,00
 D. Rp 411.400,00
 E. Rp 421.400,00

EBTANAS-SMA-95-24

Importir memasukkan barang, pembayarannya dilakukan pada waktu membuka Letter of Credit (LC).

Cara pembayaran tersebut dinamakan ...

- A. L/C biasa
 B. marchantis L/C
 C. Red Claus L/C
 D. industrial L/C
 E. usance L/C

EBTANAS-SMA-95-25

Unsur-unsur Neraca Perdagangan Internasional

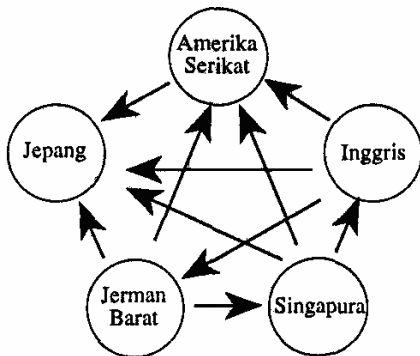
No	A	B	C
1	ekspor	utang	transportasi
2	tagihan	impor	angsuran pinjaman
3	enias	bunga	turisme

Yang termasuk di dalam kategori *current account* adalah ...

- A. A1, A2, A3
- B. A1, B2, C3
- C. A2, B3, C1
- D. B1, B2, B3
- E. C1, C2, C3

EBTANAS-SMA-95-26

Bagan di bawah adalah merupakan bentuk kerjasama ekonomi ...



- A. antar regional
- B. multilateral
- C. regional
- D. bilateral
- E. intemasional

EBTANAS-SMA-95-27

Organisasi negara-negara yang khusus memberikan bantuan kredit untuk pembangunan di Indonesia adalah ...

- A. IMF
- B. IBRD
- C. SCAFE
- D. ECOSOC
- E. CGI

EBTANAS-SMA-95-28

Pertumbuhan ekonomi meliputi:

- 1. Rumah tangga tertutup
- 2. Rumah tangga kota
- 3. Rumah tangga bangsa
- 4. Rumah tangga dunia

Teori pertumbuhan ekonomi di atas dikemukakan oleh ...

- A. Karl Bucher
- B. Friederich List
- C. Warner Sombart
- D. Adam Smith
- E. Robert Soliow

EBTANAS-SMA-95-29

Perhatikan rumusan tentang pembangunan dan pertumbuhan ekonomi berikut ini:

- 1. kenaikan GNP diiringi dengan perubahan struktur ekonomi
- 2. tidak memandang mana yang lebih besar/kecil antara GNP dengan penambahan penduduk
- 3. tidak memandang perubahan yang terjadi dalam struktur ekonomi
- 4. kenaikan pendapatan per kapita berlangsung dalam jangka panjang

Yang merupakan rumusan pembangunan dari pernyataan di atas adalah ...

- A. 1 dan 2
- B. 1 dan 3
- C. 1 dan 4
- D. 2 dan 3
- E. 3 dan 4

EBTANAS-SMA-95-30

Faktor dan kriteria perkembangan ekonomi:

- 1. sumber daya manusia
- 2. sumber daya alam
- 3. sumber daya modal
- 4. pendapatan perkapita
- 5. pendapatan nasional

Yang merupakan kriteria perkembangan ekonomi adalah ...

- A. 1 dan 2
- B. 2 dan 3
- C. 3 dan 4
- D. 3 dan 5
- E. 4 dan 5

EBTANAS-SMA-95-31

Sumber kemakmuran adalah alam, karena hanya alam yang dapat menghasilkan/produktif. Pernyataan di atas merupakan salah satu pokok ajaran dari mashab ...

- A. Fisiokrat
- B. Merkantilisme
- C. Klasik
- D. Neo Klasik
- E. Austria

EBTANAS-SMA-95-32

Pokok ajaran dari mashab historis adalah ...

- A. kepentingan negara harus diutamakan dan dalam hidup manusia dipengaruhi oleh yang berlaku
- B. manusia hendaknya dipandang sebagai makhluk homo economicus sebagai pendorong dalam kegiatan
- C. kemakmuran suatu negara dapat terwujud jika ada kerjasama antara pemerintah dengan masyarakat
- D. tujuan hidup manusia bukan semata-mata untuk kemakmuran pribadi tetapi untuk kemakmuran masyarakat
- E. segala sesuatu di dunia ini tunduk pada hukum alam sehingga tidak diperlukan campur tangan pemerintah

EBTANAS-SMA-95-33

Ciri-ciri sistem ekonomi antara lain:

1. produksi diatur sepenuhnya oleh sektor swasta
2. milik perseorangan tidak diakui
3. industri dikemudikan oleh negara
4. alat produksi milik perseorangan

Yang termasuk ciri sistem ekonomi liberal adalah ...

- A. 1 dan 2
- B. 1 dan 3
- C. 1 dan 4
- D. 2 dan 3
- E. 2 dan 4

EBTANAS-SMA-95-34

Tujuan yang hendak dicapai melalui tata Ekonomi Duma Baru oleh kelompok Roma adalah ...

- A. mempererat hubungan perekonomian dengan negara lain
- B. menghapuskan permainan dan persaingan antar negara-negara kaya
- C. setiap negara secara bersama-sama berusaha meningkatkan kesejahteraan
- D. menelaah dan mengkaji masalah dunia yang rumit dan kompleks
- E. memperbaiki cara pendistribusian persediaan sumber-sumber alam

EBTANAS-SMA-95-35

Penilaian kembali apa yang telah dilaksanakan dan disertai dengan tindakan korektif sehingga pekerjaan sesuai dengan rencana, dalam pengelolaan badan usaha termasuk fungsi ...

- A. perencanaan
- B. pengorganisasian
- C. pelaksanaan
- D. pengawasan
- E. pengkoordinasian

EBTANAS-SMA-95-38

Fungsi manajemen menurut Henry Fayol adalah ...

- A. planning, organizing, commanding, coordinator, controlling
- B. planning, organizing, actuating, controlling
- C. planning, organizing, staffing, directing, controlling
- D. planning; budgeting, staffing, directing
- E. planning, organizing, flying, controlling

EBTANAS-SMA-95-37

Perhatikan matrik di bawah ini:

No	A	B	C
1.	modal seluruhnya milik negara	seluruh atau sebagian modal milik negara	modal seluruhnya milik swasta
2.	bertujuan mencari laba dengan persaingan yang sehat	bertujuan melayani kepentingan umum	bertujuan mencari keuntungan yang sebesar-besarnya
3.	tidak ada perlakuan khusus	bidang usahanya merupakan monopoli pemerintah	politik tarif ditentukan oleh pemerintah

Yang merupakan ciri-ciri pokok PERUM adalah ...

- A. A1, B1, C1
- B. A1, B2, C3
- C. A2, B2, C2
- D. A2, B3, C2
- E. A3, B3, C3

EBTANAS-SMA-95-38

Menurut Undang-undang koperasi Nomor 25 tahun 1992, alat perlengkapan organisasi koperasi terdiri dari ...

- A. rapat anggota, pengurus, Badan Pemeriksa
- B. rapat anggota, penasehat, pengurus
- C. rapat anggota, pengurus, pengawas
- D. penasehat, pengurus, pengawas
- E. penasehat, pengurus, Badan Pemeriksa

EBTANAS-SMA-95-39

Sejumlah uang yang wajib dibayarkan oleh anggota kepada koperasi pada saat seseorang menjadi anggota koperasi dan tidak dapat diambil kembali selama menjadi anggota koperasi disebut ...

- A. simpanan wajib
- B. simpanan pokok
- C. simpanan deposito
- D. simpanan sukarela
- E. simpanan berjangka

EBTANAS-SMA-95-40

Koperasi "X" dalam tahun 1991 memperoleh SHU sejumlah Rp 550.000,00 jika SHU yang diperoleh dibagi sebagai berikut:

Jasa modal	40%
Jasa anggota	20%
Jasa pengurus	30%
Cadangan	10%

maka jurnal data di atas adalah ...

- A. modal Rp 550.000,00
jasa modal Rp 110.000,00
jasa anggota Rp 165.000,00
cadangan Rp 55.000,00
- B. jasa modal Rp 220.000,00
jasa anggota Rp 110.000,00
jasa pengurus Rp 165.000,00
cadangan Rp 55.000,00
SHU Rp 550.000,00
- C. ikhtisar rugi laba Rp 550.000,00
modal Rp 550.000,00
- D. jasa modal Rp 220.000,00
jasa anggota Rp 110.000,00
jaspengurus Rp 165.000,00
cadangan Rp 550.000,00
ikhtisar rugi laba Rp 550.000,00
- E. SHU Rp 550.000,00
jasa modal Rp 220.000,00
jasa anggota Rp 110.000,00
jasa pengurus Rp 165.000,00
cadangan Rp 55.000,00

URAIAN

EBTANAS-SMA-95-41

Terdapat 4 (empat) sistem pemungutan pajak (cara degresif, progresif dan regresif) Jelaskanlah 2 (dua) cara pemungutan pajak di atas!

EBTANAS-SMA-95-42

Diketahui: Biaya tetap per unit =Rp 600,00.
Biaya variabel per unit = Rp 8,00.
Jumlah produksi = 80 unit bmang

Diminta: Buatlah kurva/grafik biaya produksi tersebut, dan hitunglah biaya total pada produksi 80 unit!

EBTANAS-SMA-95-43

Tabel permintaan

Harga	Permintaan
Rp 10.000,00	5.000 unit
Rp 12.000,00	4.000 unit

Berdasarkan tabel di atas hitunglah elastisitas permintaanya!

EBTANAS-SMA-95-44

Sebutkan tahap pertumbuhan ekonomi menurut Friedrich List!

EBTANAS-SMA-95-45

Sebutkan 4 (empat) faktor intern dalam pengelolaan